

# 28 高等学校 地理歴史科 (地理) 問題用紙

(10枚のうち1)

受験番号	氏名	
------	----	--

(答えは、すべて解答用紙に記入すること。)

1 次の文章を読んで、下の1～5に答えなさい。

著作権保護の観点により、掲載いたしません。

1 文章中の ( a ) にあてはまる会議は何ですか。次の (ア) ～ (エ) の中から選び、その記号を書きなさい。

- (ア) ウィーン会議      (イ) サンフランシスコ会議      (ウ) ロンドン会議      (エ) ワシントン会議

2 下線部 ① に関して、右の年表は、このころのできごとを

示し、また、それぞれのできごとの前後の期間を (ア) ～

(エ) の ↓ で示しています。(ア) ～ (エ) の期間のうち、

下線部 ① が発表された期間はどれですか。その記号を書き

なさい。

1939年9月	↓ (ア)	ドイツがポーランド侵攻
1940年9月	↓ (イ)	日独伊三国同盟締結
1942年6月	↓ (ウ)	ミッドウェー海戦
1944年6月	↓ (エ)	連合軍がノルマンディーに上陸作戦
1945年8月		広島に原子爆弾投下

3 下線部 ② に関して、次の (ア) ～ (エ) のうち、国際連盟の設立から第二次世界大戦の勃発までのできごとについて述べ

たものはどれですか。その記号を書きなさい。

(ア) キング牧師がノーベル平和賞を受賞した。

(イ) ショパンが「革命」を作曲した。

(ウ) デュナンの国際赤十字社を設立した。

(エ) ピカソが「ゲルニカ」を描いた。

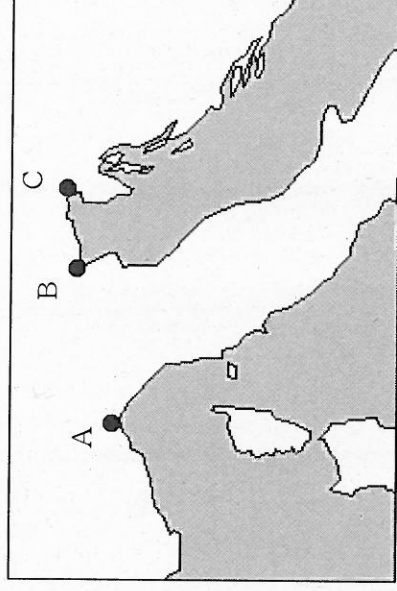
4 下線部 ③ に関して、右の地図中のA～Cはヨーロッパのある都市の

位置を示し、次の資料は、1946年3月にフルトンで行われた演説の一部

を示しています。資料中の ( ) にあてはまる都市の名とその位置を

示す組み合わせとして正しいものはどれですか。下のア～カの中から選

び、その記号を書きなさい。



著作権保護の観点により、掲載いたしません。

	ア	イ	ウ	エ	オ	カ
都市名	ジェノヴァ	ジェノヴァ	ジェノヴァ	トリエステ	トリエステ	トリエステ
位置	A	B	C	A	B	C

5 下線部 ④ に関して、1948年に、ソ連が西ベルリンへの交通を遮断したのはなぜですか。その理由を、当時のドイツ情勢を踏まえて簡潔に書きなさい。

# 28 高等学校 地理歴史科 (地理) 問題用紙

(10枚のうち2)

受験番号	氏名
------	----

(答えは、すべて解答用紙に記入すること。)

2 次の文章を読んで、下の1～5の問いに答えなさい。

著作権保護の観点により、掲載いたしません。

1 下線部①について、次の文章中の ( a )・( b ) にあてはまる語は何ですか。下のア～エの組み合わせの中から選び、その記号を書きなさい。

著作権保護の観点により、掲載いたしません。

- |   |   |         |
|---|---|---------|
| ア | [ | (a) 郡国制 |
|   |   | (b) 法家  |
| イ | [ | (a) 郡県制 |
|   |   | (b) 法家  |

2 下線部②の時代の社会について述べたものはどれですか。次のア～エの中から選び、その記号を書きなさい。

- ア 度量衡・貨幣・文字が統一された。
- イ 均田制が実施され、農民生活の安定がはかられた。
- ウ 均輸・平準などの経済統制が実施された。
- エ 行や作とよばれる同業組合が組織された。

3 下線部③に関して、この時期地中海地方では、ローマが領域の拡大を行っていました。前202年頃のローマの状況を述べたものはどれですか。次の (ア)～(エ)の中から選び、その記号を書きなさい。

- (ア) イタリア半島を統一した。
- (イ) ポエニ戦争でハンニバルと戦った。
- (ウ) カエサルがガリア遠征を行った。
- (エ) アクティウムの海戦で勝利した。

4 下線部④に関して、次の文章は、『史記』中の武帝の時代に西域への支配の拡大のきっかけとなった張騫の報告に関する記述を日本語に訳したものです。文章中の ( ) には国名が入ります。文章中の ( ) にあてはまる語を書きなさい。なお、文書中の ( ) には、同じ語が入ります。

著作権保護の観点により、掲載いたしません。

5 下線部⑤に関して、『後漢書』には、光武帝が「漢委奴国王」の印綬を与えていることが記述されています。このように中国の皇帝が印綬を与えるのはなぜですか。その理由を、中国の皇帝が印綬を東アジア諸国にも与えていたことを踏まえて簡潔に書きなさい。

# 28 高等学校 地理歴史科 (地理) 問題用紙

(10枚のうち3)

受験番号	氏名
------	----

(答えは、すべて解答用紙に記入すること。)

- 3 次の資料Ⅰ～Ⅳを見て、下のⅠ～Ⅴに答えなさい。

著作権保護の観点により、掲載いたしません。

- 資料Ⅰに関して、資料中の  にあてはまる語を書きなさい。
- 資料Ⅱに関して、この日記が記された時期に起こった戦乱はどれですか。次のア～エの中から選び、その記号を書きなさい。  
ア 磐井の乱      イ 大塩の乱      ウ 平忠常の乱      エ 藤原純友の乱
- 資料Ⅲに関して、この文書はある政策の実施を指示したものです。この政策の特徴について述べたものはどれですか。次のア～エの中から選び、その記号を書きなさい。  
ア 課税の基準を、不安定な収穫高から一定した地価に変更した。  
イ 課税の対象は、成年男子中心から、名田中心へと移っていった。  
ウ 国人や地侍らの収入額を、貫高という基準で統一的に把握した。  
エ 村ごとに田畑・屋敷地の面積・等級を調査してその石高を定めた。
- 資料Ⅳに関して、天皇がこの法令を出したのはなぜですか。その理由を、この時代の仏教の性格を踏まえて簡潔に書きなさい。
- 資料Ⅰ～Ⅳの文書が作成された時期を、年代の古い順に並べ、その記号を書きなさい。

# 28 高等学校 地理歴史科 (地理) 問題用紙

(10枚のうち4)

受験番号	氏名	
------	----	--

(答えは、すべて解答用紙に記入すること。)

4 次の略年表を見て、下の1～5に答えなさい。

年	できごと
明治 5 (1872)	A 富岡製糸場が設立される。
明治 34 (1901)	B 八幡製鉄所が操業開始される。
大正 3 (1914)	C 東京駅が開業される。
昭和 22 (1947)	D 復興金融庫が設立される。
昭和 45 (1970)	E 日本万国博覧会が開催される。

1 Aに関して、富岡製糸場に導入された先進技術は、どこの国の技術ですか。次の(ア)～(エ)の中から選び、その記号を書きなさい。

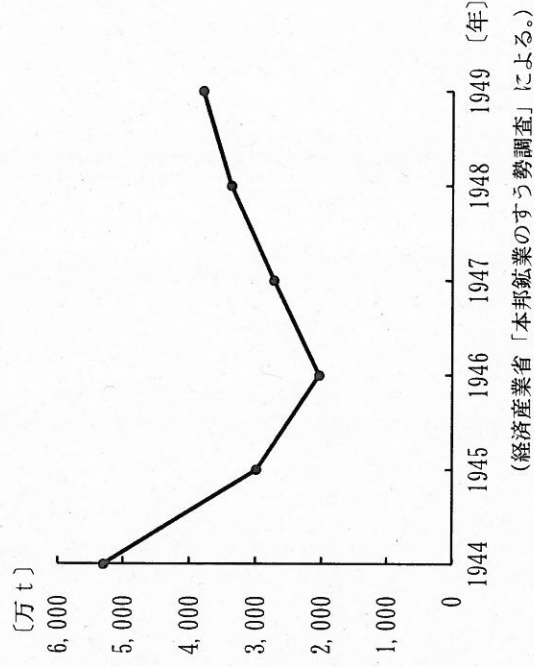
- (ア) アメリカ      (イ) イギリス      (ウ) フランス      (エ) ロシア

2 Bの時期に関して、軍部・官僚・貴族院勢力と立憲政友会とが政界を二分し、10年以上にわたって交互に内閣を担当しました。この時期は当時の内閣総理大臣の苗字に基づいて何とよばれていますか。その名称を書きなさい。

3 Cに関して、東京駅や日本銀行本店を設計した建築家はどれですか。次のア～エの中から選び、その記号を書きなさい。

- ア 梅原龍三郎      イ 片山東熊      ウ 高村光太郎      エ 辰野金吾

4 Dに関して、この時期の日本の石炭の生産量は右のグラフのように変化しました。それはなぜですか。その理由を、第1次吉田茂内閣により開始された主な政策を踏まえて簡潔に書きなさい。



5 Eの時期に関して、1970年代の日本の様子について述べた文として正しいものはどれですか。次の(ア)～(エ)の中から選び、その記号を書きなさい。

- (ア) プラザ合意により円高は一気に加速して不況が深刻化した。  
 (イ) 国際通貨基金と、関税及び貿易に関する一般協定に加盟した。  
 (ウ) 日本列島改造論が展開され、全国で社会資本投資が行われ地価が高騰した。  
 (エ) 農業の経営規模の拡大や自立経営の育成をめざして農業基本法を制定した。

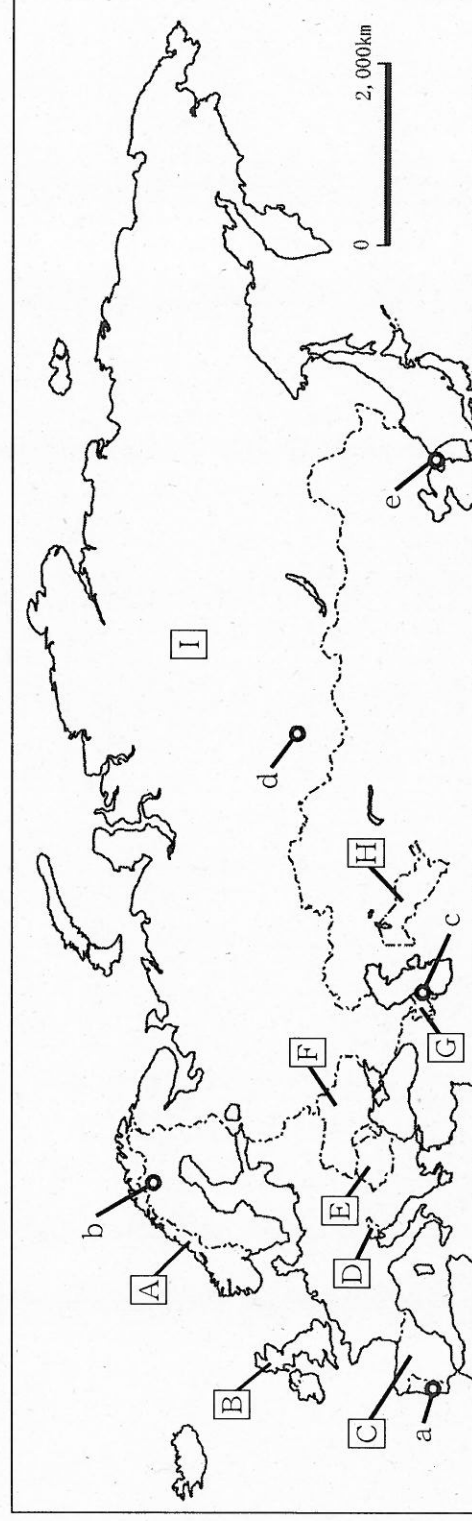
# 28 高等学校 地理歴史科 (地理) 問題用紙

(10枚のうち5)

受験番号	氏名	
------	----	--

(答えは、すべて解答用紙に記入すること。)

5 次の地図を見て、下の1～5に答えなさい。



1 地図中の[A], [C], [D]の国では、それぞれ特徴的な地形が見られます。これらの地形の名称は、それぞれの国の地方名や地形のよび方に由来しています。これらの地形の名称の組み合わせとして正しいものはどれですか。次のア～カの中から選び、その記号を書きなさい。

	ア	イ	ウ	エ	オ	カ
[A]	カルスト地形	カルスト地形	フィヨルド	フィヨルド	リアス海岸	リアス海岸
[C]	フィヨルド	リアス海岸	カルスト地形	リアス海岸	カルスト地形	フィヨルド
[D]	リアス海岸	フィヨルド	リアス海岸	カルスト地形	フィヨルド	カルスト地形

2 次の表は、地図中の[B], [E], [I]の国における2013年の輸出相手国上位5ヶ国と輸出額全体に占める割合を示しています。表中の①～③は、[B], [E], [I]のうちそれぞれどの国ですか。下のア～カの組み合わせの中から選び、その記号を書きなさい。

順位	①		②		③	
	国名	割合 (%)	国名	割合 (%)	国名	割合 (%)
1	オランダ	13.1	スイス	13.0	ドイツ	18.5
2	中国	6.8	アメリカ	11.4	イタリア	11.5
3	イタリア	5.5	ドイツ	8.8	フランス	6.8
4	ドイツ	4.4	オランダ	6.9	トルコ	5.1
5	日本	3.7	フランス	6.4	ハンガリー	4.9

(地理統計要覧 2015年版による。)

ア	イ	ウ	エ	オ	カ
①	[B]	[E]	[E]	[I]	[I]
②	[E]	[B]	[I]	[B]	[E]
③	[I]	[E]	[I]	[B]	[E]

# 28 高等学校 地理歴史科 (地理) 問題用紙

(10枚のうち6)

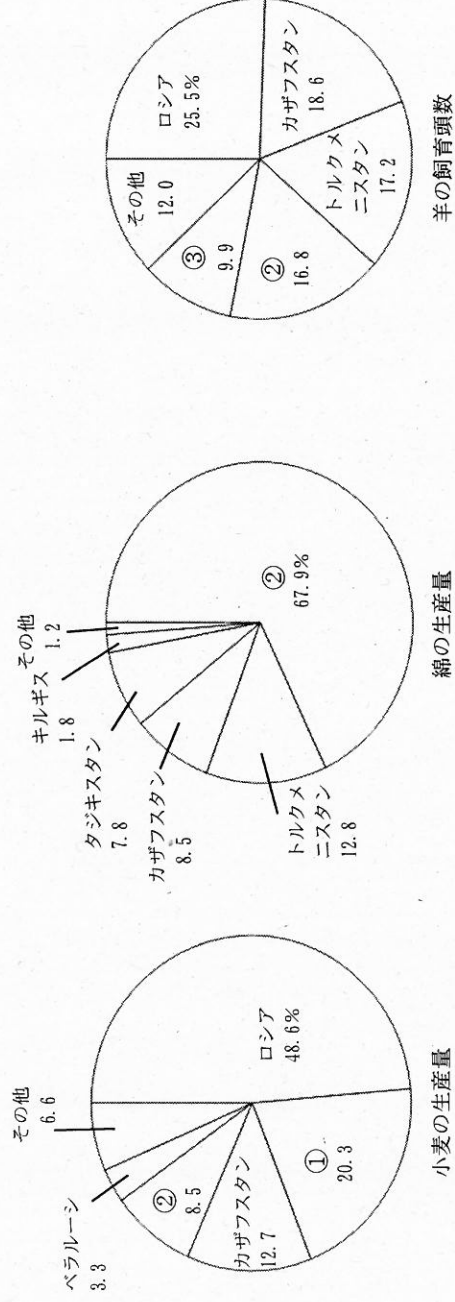
受験番号	氏名	
------	----	--

(答えは、すべて解答用紙に記入すること。)

3 地図中のb, c, dは主な鉱産資源の産地を示しています。それぞれの鉱産資源名の組み合わせとして正しいものはどれですか。次のア～カの中から選び、その記号を書きなさい。

	ア	イ	ウ	エ	オ	カ
b	原油	原油	石炭	石炭	鉄鉱石	鉄鉱石
c	石炭	鉄鉱石	原油	鉄鉱石	原油	石炭
d	鉄鉱石	石炭	鉄鉱石	原油	石炭	原油

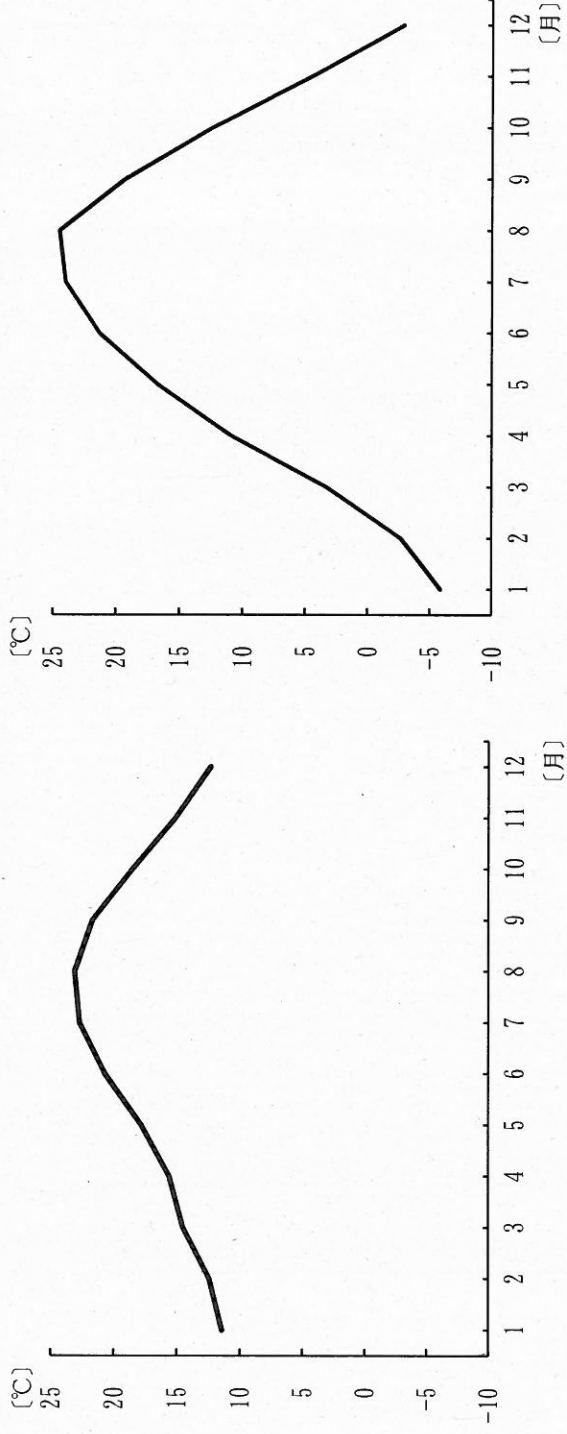
4 次のグラフは、2013年におけるC I S諸国の小麦の生産量、綿の生産量、綿の飼育頭数上位5ヶ国とC I Sに占める割合を示したものです。グラフ中の①～③は、地図中の[F], [G], [H]のいずれかの国とそれぞれ一致します。グラフ中の①～③は、それぞれどこの国ですか。下のア～カの組み合わせの中から選び、その記号を書きなさい。



	ア	イ	ウ	エ	オ	カ
①	[F]	[F]	[G]	[G]	[H]	[H]
②	[G]	[H]	[F]	[H]	[F]	[G]
③	[H]	[G]	[H]	[F]	[G]	[F]

(地理統計要覧 2015年版による。)

5 次のグラフは、地図中のa, eのいずれかの都市における気温の月別平均値を示したものです。最暖月と最寒月の平均気温の差が、都市aと都市eとで大きく異なるのはなぜですか。その理由を都市の位置や風の影響を踏まえて簡潔に書きなさい。



(理科年表平成27年による。)

# 28 高等学校 地理歴史科 (地理) 問題用紙

(10枚のうち7)

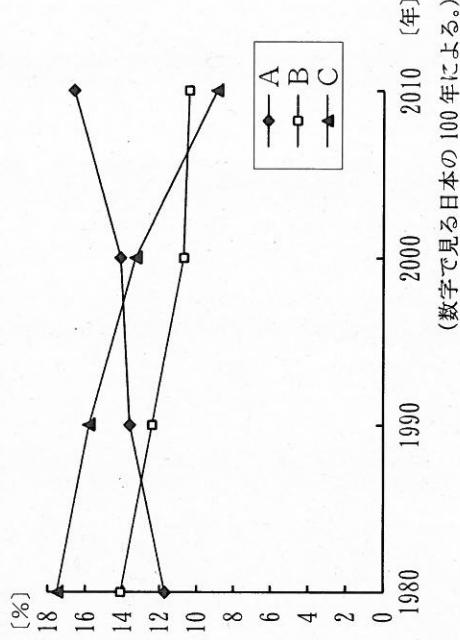
受験番号	氏名	
------	----	--

(答えは、すべて解答用紙に記入すること。)

- 6 次の文章を読んで、下の1～4に答えなさい。

著作権保護の観点により、掲載いたしません。

- 1 文章中の ( ) にあてはまる語を書きなさい。
- 2 下線部 ① に関して、右のグラフ中のA～Cは京浜、中京、阪神のいずれかの工業地帯における製造品出荷額の全国に占める割合の変化について、1980年から2010年の推移をそれぞれ示したものです。グラフ中のA～Cは、それぞれの工業地帯ですか。下のア～カの組み合わせのうちから選び、その記号を書きなさい。



	ア	イ	ウ	エ	オ	カ
A	京浜	京浜	中京	中京	阪神	阪神
B	中京	阪神	京浜	阪神	京浜	中京
C	阪神	中京	阪神	京浜	中京	京浜

- 3 下線部 ② に関して、次の表A～Cは、2010年における韓国、シンガポール、香港のいずれかの国・地域の輸出入品上位5品目とその額を示したものです。次の表A～Cは、それぞれの国・地域ですか。あとのア～カの組み合わせの中から選び、その記号を書きなさい。

著作権保護の観点により、掲載いたしません。

# 28 高等学校 地理歴史科 (地理) 問題用紙

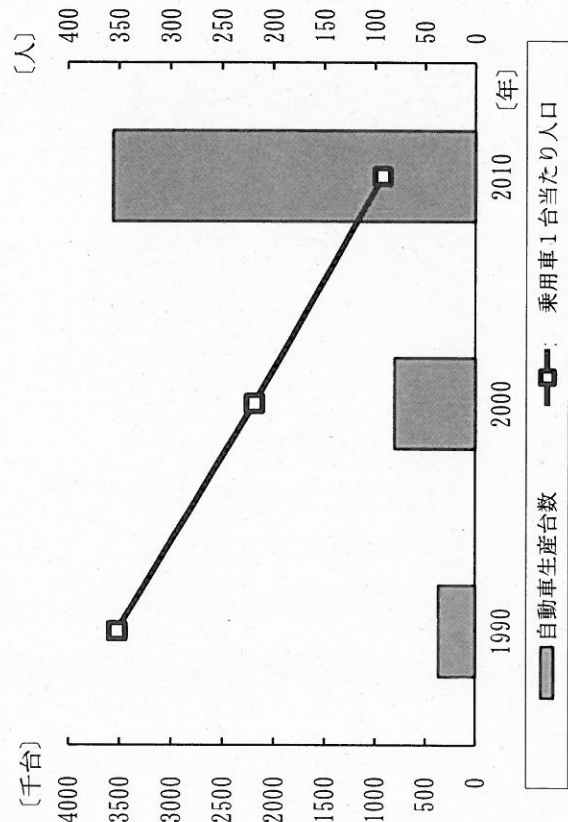
(10枚のうち8)

受験番号	氏名	
------	----	--

(答えは、すべて解答用紙に記入すること。)

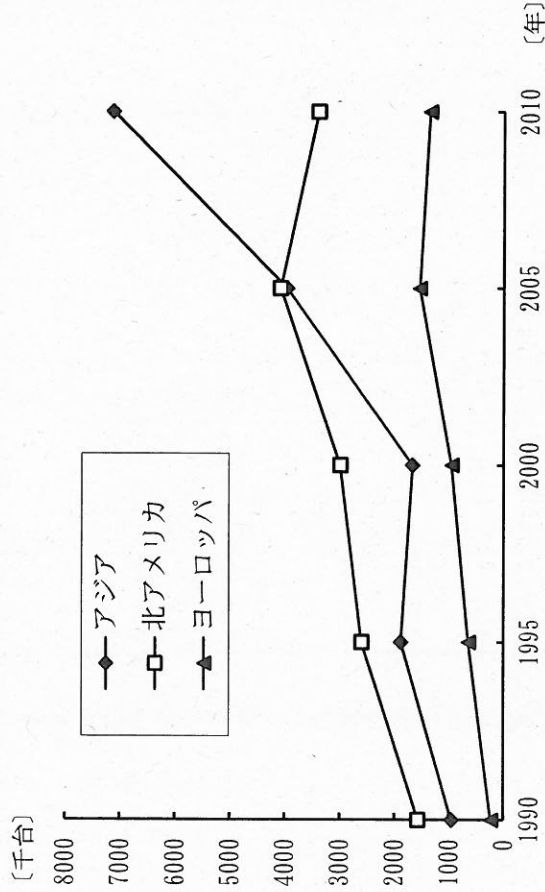
	ア	イ	ウ	エ	オ	カ
A	韓国	韓国	シンガポール	シンガポール	香港	香港
B	シンガポール	香港	韓国	香港	韓国	シンガポール
C	香港	シンガポール	香港	韓国	シンガポール	韓国

4 下線部 ③ に関して、次のグラフは、インドにおける1990年から2010年にかけての自動車生産台数の変化及び乗用車1台当たり人口の変化を示しています。インドの自動車生産台数がこのように変化した要因として考えられることは何ですか。下の資料を参考に、簡潔に書きなさい。



(世界国勢図会 2014/15年版, データブックオプ・ザ・ワールド 2013年版による。)

資料 日本の国内自動車会社における海外生産を行う地域の変化



(日本自動車工業会ホームページによる。)



# 28 高等学校 地理歴史科 (地理) 問題用紙

(10枚のうち9)

受験番号	氏名	
------	----	--

(答えは、すべて解答用紙に記入すること。)

- 7 平成 21 年 3 月告示の高等学校学習指導要領 地理歴史 地理 A 3 内容の取扱い (2) イ (エ) には、「生活圏の地理的な諸課題と地域調査」を取り扱う際の留意事項が示されています。どのようなことに留意することとされていますか。簡潔に書きなさい。
- 8 平成 21 年 3 月告示の高等学校学習指導要領 地理歴史 地理 B 2 内容 (2) ア には、「世界の地形、気候、植生などに関する諸事象を取り上げ、それらの分布や人間生活とのかかわりなどについて考察させるとともに、現代世界の環境問題を大観させる。」と示されています。「現代世界の環境問題を大観させる」際の指導に当たって、どのようなことに留意することとされていますか。簡潔に書きなさい。
- 9 図 1 は、1970 年から 2010 年にかけての、韓国、スウェーデン、日本、フランスのそれぞれの合計特殊出生率の推移を示し、図 2 は、2010 年における、韓国、スウェーデン、日本、フランスのそれぞれの女性の年齢階級別労働力率を示しています。また、図 3 は、1960 年から 2010 年にかけての日本の女性の年齢階級別労働力率の変化を示したものです。これらを見て、あとの 1・2 に答えなさい。

〔人〕

年	韓国	スウェーデン	日本	フランス
1970	4.50	1.94	2.13	2.47
1975	3.30	1.78	1.91	1.96
1980	2.70	1.68	1.75	1.99
1985	1.70	1.73	1.76	1.81
1990	1.59	2.14	1.54	1.78
1995	1.64	1.74	1.42	1.70
2000	1.47	1.57	1.36	1.88
2005	1.08	1.77	1.26	1.92
2010	1.23	1.99	1.39	2.02

(人口統計資料集 2015 年版による。)

図 1

〔%〕

歳	韓国	スウェーデン	日本	フランス
15-19	8.5	34.0	15.9	12.5
20-24	53.5	68.4	69.4	58.2
25-29	69.8	80.7	77.1	82.3
30-34	54.6	86.8	67.8	81.9
35-39	55.9	88.9	66.2	84.7
40-44	65.9	90.5	71.6	85.8
45-49	65.6	89.3	75.8	86.2
50-54	61.3	88.0	72.8	81.3
55-59	53.4	82.0	63.3	61.4
60-64	41.5	58.8	45.7	17.7
65-69	32.3	10.7	27.4	3.5

(データブック国際労働比較 2012 による。)

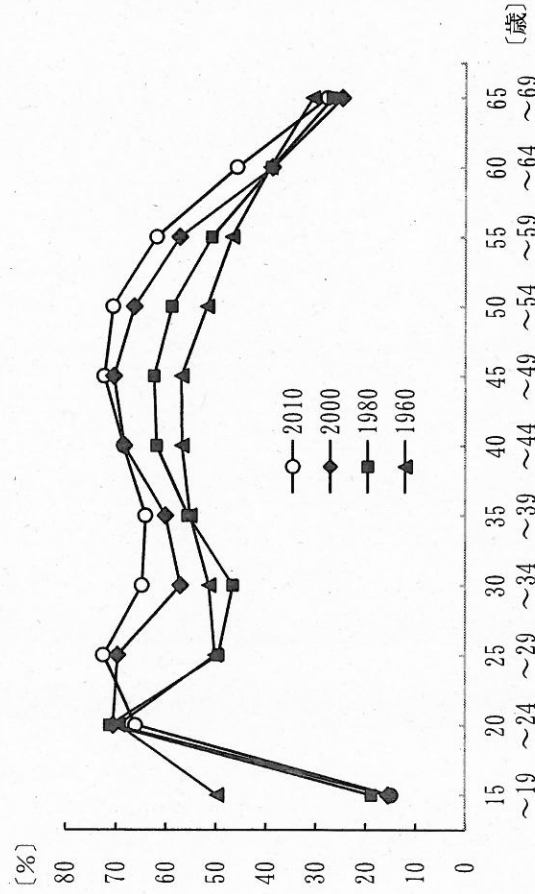
図 2

# 28 高等学校 地理歴史科 (地理) 問題用紙

(10枚のうち10)

受験番号	氏名	
------	----	--

(答えは、すべて解答用紙に記入すること。)



(人口統計資料集 2015 年版による。)

図3

- 1 図1に関して、韓国、スウェーデン、日本、フランスの合計特殊出生率の推移について、生徒に分かりやすく説明するためのグラフをかきなさい。また、グラフから読み取れる先進国の人口問題の特徴とは何ですか。簡潔に書きなさい。
- 2 「地理B」の授業において、図1・2を使って生徒に日本の合計特殊出生率を上昇させるための対策について考察させたところ、次のようなまとめが示されました。この生徒の考察を深めさせるためには、どのような内容を理解させますか。図3を参考にして簡潔に書きなさい。また、その内容を理解させるための発問を簡潔に書きなさい。

(生徒のまとめ)

図2のグラフをかいて考察すると、女性の年齢階級別労働力率にみられるM字カーブを解消し、スウェーデンやフランスと同様の台形型へ移行させていけば、日本の合計特殊出生率は上昇する。

(2枚のうち1)


受験番号		氏名	
------	--	----	--

問題番号		解答欄
1	1	
	2	
	3	
	4	
	5	
2	1	
	2	
	3	
	4	
	5	
3	1	
	2	
	3	
	4	
	5	→ → →
4	1	
	2	
	3	
	4	
	5	
5	1	
	2	
	3	
	4	
	5	

28 高等学校 地理歴史科（地理） 解答用紙

(2枚のうち2)

受験番号		氏名	
------	--	----	--

問題番号		解答欄		
6	1			
	2			
	3			
	4			
7				
8				
9	1	グラフ		特徴
	2	内容		
		発問		