

# 28 高等学校 公民科 (倫理) 問題用紙

(7枚のうち1)

受験番号	氏名
------	----

(答えは、すべて解答题紙に記入すること。)

1 次の文章を読んで、下の1～4に答えなさい。

著作権保護の観点により、掲載いたしません。

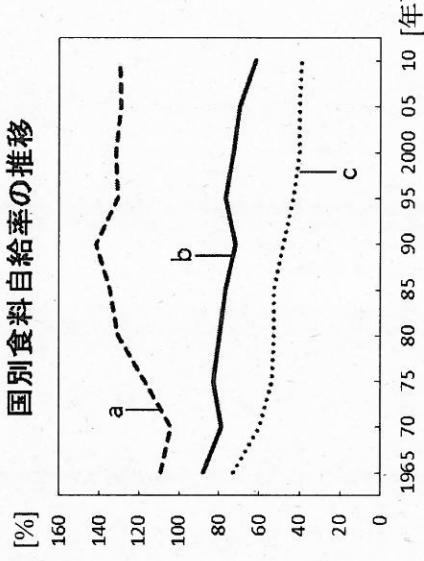
1 文章中の下線部①に関して、次の(1)・(2)に答えなさい。

(1) 右のグラフは、国別の食料自給率について示したものです。グラフ中のa～cは、イタリア、日本、フランスのいずれかの国と一致します。

a～cの組み合わせとして正しいものを次の(ア)～(カ)の中から選び、その記号を書きなさい。

- (ア) a イタリア    b 日本    c フランス
- (イ) a イタリア    b フランス    c 日本
- (ウ) a 日本    b イタリア    c フランス
- (エ) a 日本    b フランス    c イタリア
- (オ) a フランス    b イタリア    c 日本
- (カ) a フランス    b 日本    c イタリア

国別食料自給率の推移



(農林水産省ウェブページ「諸外国・地域の食料自給率(カロリーベース)の推移」による。)

(2) 次の文は、食料・農業・農村基本法第2条第2項を示しています。文中の( )にあてはまる語を書きなさい。

国民に対する食料の安定的な供給については、世界の食料の需給及び貿易が不安定な要素を有していることにかんがみ、国内の農業生産の増大を図ることを基本とし、これと輸入及び( )とを適切に組み合わせるべきならぬ。

2 文章中の下線部②に関して、平成25年の基幹的農業従事者数は、前年と比べて2%減少し174万人となっています。基幹的農業従事者の年齢構成は、65歳以上が61%(107万人)、40代以下が10%(18万人)となっており、今後、高齢農業者のリータイアが増加することが見込まれます。こうした状況に対応するためには、どのような対策が必要ですか。簡潔に2つ書きなさい。

3 文章中の下線部③に関して、平成21年に改正農地法が施行されました。また、次の表は、改正農地法施行前後における一般法人の参入数を示しています。農地法はどのように改正されたのですか。表の内容を踏まえ、簡潔に書きなさい。

改正農地法施行前 (H15. 4～H21. 12)	改正農地法施行後 (H21. 12～H25. 6)
一般法人の 参入数 436	1261

(農林水産省資料による。)

4 文章中の下線部④に関して、1次産業としての農林漁業と、2次産業としての製造業、3次産業としての小売業等の事業との総合的かつ一体的な推進を図り、地域資源を活用した新たな付加価値を生み出す取組を何といたしますか。書きなさい。

## 28 高等学校 公民科 (倫理) 問題用紙

(7枚のうち2)

受験番号	氏名
------	----

(答えは、すべて解答用紙に記入すること。)

2 次の文章を読んで、下の1～4に答えなさい。

著作権保護の観点により、掲載いたしません。

- 1 下線部①に関して、アメリカの経済学者ガルブレイスは『ゆたかな社会』のなかで、消費者の消費意欲は企業の宣伝や広告に左右されがちであることを指摘しました。このように、消費者の欲望が生産に従属する現象を何とといいますか。書きなさい。
- 2 下線部②に関して、売り手である企業は、買い手である消費者よりも、はるかに詳しい商品に関する情報を有しています。このように、経済主体間で保有する情報に差があることを何とといいますか。書きなさい。
- 3 下線部③に関して、次の資料は、NPO法人環境市民が紹介している「グリーンコンシューマーの買い物 10の原則」を示しています。次の資料の下線部④の行動が、環境に配慮した行動となるのはなぜですか。その理由を簡潔に書きなさい。

- (1) 必要なものを必要なだけ買う
- (2) 使い捨て商品ではなく、長く使えるものを選ぶ
- (3) 容器や包装はないものを優先し、次に最小限のもの、容器は再使用できるものを選ぶ
- (4) 作るとき、買うとき、捨てるときに、資源とエネルギー消費の少ないものを選ぶ
- (5) 化学物質による環境汚染と健康への影響の少ないものを選ぶ
- (6) 自然と生物多様性をそこなわないものを選ぶ
- (7) ④近くで生産・製造されたものを選ぶ
- (8) 作る人に公正な分配が保証されるものを選ぶ
- (9) リサイクルされたもの、リサイクルシステムのあるものを選ぶ
- (10) 環境問題に熱心に取り組み、環境情報を公開しているメーカーや店を選ぶ

(NPO 法人環境市民ウェブサイトによる。)

- 4 文章中の下線部④に関して、国内で飼養され、平成16年12月1日以降に食肉処理された牛の精肉などには、右図のような個体識別番号が表示されています。独立行政法人家畜改良センターのホームページにアクセスし、個体識別番号を入力することで、その牛の品種や、いつ・どこで生まれ、育てられ、とさつされたかななどの情報を見ることができます。このように、農産物や加工食品などの食品が、どこから来て、どこへ行ったか「移動を把握できる」ことを何とといいますか。その名称を書きなさい。



(農林水産省ウェブサイトによる。)

## 28 高等学校 公民科 (倫理) 問題用紙

(7枚のうち3)

受験番号	氏名
------	----

(答えは、すべて解答用紙に記入すること。)

- 3 次の文章を読んで、下の1～4に答えなさい。

著作権保護の観点により、掲載いたしません。

- 1 文章中の下線部①に関して、中世になると西ヨーロッパ全体がキリスト教化され、ローマ・カトリック教会は絶大な権威を持つようになりました。当時の哲学は、教会や修道院に附属する学校で教授・学習されたため、スコラ哲学とよばれました。スコラ哲学最大の哲学者であるトマス＝アキナスの主張はどれですか。次のア～エの中から選び、その記号を書きなさい。

ア 著作権保護の観点により、掲載いたしません。

イ

ウ

エ

- 2 文章中の下線部②に関して、次の文章は『ノヴム・オルガヌム』の一説です。文章中の下線部は、何のたとえですか。その名称を書きなさい。

著作権保護の観点により、掲載いたしません。

- 3 文章中の下線部③に関して、デカルトは、理性的で自由な意志によって情念を支配し、自らが最善と判断したことを実践する心の気高さを持つべきだと説きました。デカルトは、このような自己を尊重する気高い心を何とよびましたか。その名称を書きなさい。

- 4 文章中の下線部④に関して、カントは、理性の命令を仮言命法と定言命法とに分けました。仮言命法は、定言命法とどのように異なりますか。簡潔に書きなさい。

# 28 高等学校 公民科 (倫理) 問題用紙

(7枚のうち4)

受験番号	氏名	
------	----	--

(答えは、すべて解答用紙に記入すること。)

- 4 次の文章を読んで、下の1～5に答えなさい。

著作権保護の観点により、掲載いたしません。

- 1 文章中の ( ) にあてはまる評論家は誰ですか。人物名を書きなさい。
- 2 文章中の下線部 ① に関して、坂口安吾は偽善的な道徳に安住するのではなく、そこから「随ちよ」と説きました。坂口安吾の著作の一部はどれですか。次のア～エの中から選び、その記号を書きなさい。

著作権保護の観点により、掲載いたしません。

ア  
イ  
ウ  
エ

- 3 文章中の下線部 ② に関して、丸山眞男は、超国家主義をうみだした日本の精神風土に注目しました。丸山眞男は、日本人が超国家主義におちいった要因については、何であると分析していますか。次のア～エの中から選び、その記号を書きなさい。
- 4 文章中の下線部 ③ に関して、宮沢賢治は独特の詩や童話で、理想的世界のありようを描いています。宮沢賢治の幸福観について述べたものはどれですか。次のア～エの中から選び、その記号を書きなさい。

著作権保護の観点により、掲載いたしません。

ア  
イ  
ウ  
エ

- 5 文章中の下線部 ④ に関して、南方熊楠が、鎮守の森を守ろうとしたのはなぜですか。その理由を簡潔に書きなさい。

## 28 高等学校 公民科 (倫理) 問題用紙

(7枚のうち5)

受験番号	氏名	
------	----	--

(答えは、すべて解答题紙に記入すること。)

5 次の文章を読んで、下の1～5に答えなさい。

著作権保護の観点により、掲載いたしません。

- 1 文章中の下線部①に関して、選挙運動の総括主宰者、出納責任者など候補者など候補者との関係にある者が、買収などで有罪になった場合、候補者自身が関与していても、選挙の当選が無効とされる制度があります。この制度を何といいますか。書きなさい。
- 2 文章中の下線部②に関して、国会によらない立法として例外的に認められている、日本国憲法第58条第2項で規定されていることは何ですか。簡潔に書きなさい。

- 3 文章中の下線部③について、次の表は第170回国会において内閣総理大臣を指名した際の、衆議院と参議院における投票の結果を示したものです。このように投票された後、内閣総理大臣の指名における国会の議決は、どのように行われますか。簡潔に書きなさい。

	衆議院	参議院
議員A	337	108
議員B	117	120
議員C	9	7
議員D	7	—
議員E	7	5
議員F	1	—
白票	—	7

(「衆議院公報」, 「参議院公報」による。)

- 4 文章中の下線部④について、次の文章は日本国憲法第96条を示したものです。文章中の(a)・(b)にあてはまる言葉の組み合わせとして正しいものはどれですか。下のア～エの中から選び、その記号を書きなさい。

この憲法の改正は、各議院の(a)の三分の二以上の賛成で、国会が、これを発議し、国民に提案してその承認を経なければならぬ。この承認には、特別の国民投票又は国会の定める選挙の際行はれる投票において、その(b)の賛成を必要とする。

ア  $\left[ \begin{array}{l} \text{(a) 総議員} \\ \text{(b) 過半数} \end{array} \right.$       イ  $\left[ \begin{array}{l} \text{(a) 出席議員} \\ \text{(b) 過半数} \end{array} \right.$       エ  $\left[ \begin{array}{l} \text{(a) 総議員} \\ \text{(b) 三分の二} \end{array} \right.$       オ  $\left[ \begin{array}{l} \text{(a) 出席議員} \\ \text{(b) 三分の二} \end{array} \right.$

- 5 文章中の下線部⑤について、次のA～Cは、アメリカ連邦議会及びイギリス議会の上院又は下院のいずれかについて説明しています。A～Cの説明は、どの議院のことを示していますか。下の(ア)～(エ)の中からそれぞれ選び、その記号を書きなさい。

- A 国民が直接選んだ議員からなり、この院における多数党の党首が首相となる。
- B 各州から2名選出され、条約の承認権や政府高官の人事の同意権、弾劾裁判権がある。
- C 非民選で、かつて最高法院が付属していたが、2009年に最高裁判所が設けられ、司法機能は失われた。

(ア) アメリカ連邦議会上院    (イ) アメリカ連邦議会上院    (ウ) イギリス議会上院    (エ) イギリス議会上院    (オ) イギリス議会上院

# 28 高等学校 公民科 (倫理) 問題用紙


(7枚のうち6)

受験番号	氏名	
------	----	--

(答えは、すべて解答用紙に記入すること。)

6 次の文章を読んで、下の1～4に答えなさい。

著作権保護の観点により、掲載いたしません。



1 文章中の下線部①に関して、図1は国別輸出総額の推移を、

図2は国別輸入総額の推移を示したものです。図1・2中のa

～cは、日本、アメリカ、中国のいずれかの国と一致します。

a～cの組み合わせとして正しいものを、次の(ア)～(カ)の中から選び、その記号を書きなさい。

- |       |      |   |      |   |      |
|-------|------|---|------|---|------|
| (ア) a | 日本   | b | アメリカ | c | 中国   |
| (イ) a | 日本   | b | 中国   | c | アメリカ |
| (ウ) a | アメリカ | b | 日本   | c | 中国   |
| (エ) a | アメリカ | b | 中国   | c | 日本   |
| (オ) a | 中国   | b | 日本   | c | アメリカ |
| (カ) a | 中国   | b | アメリカ | c | 日本   |

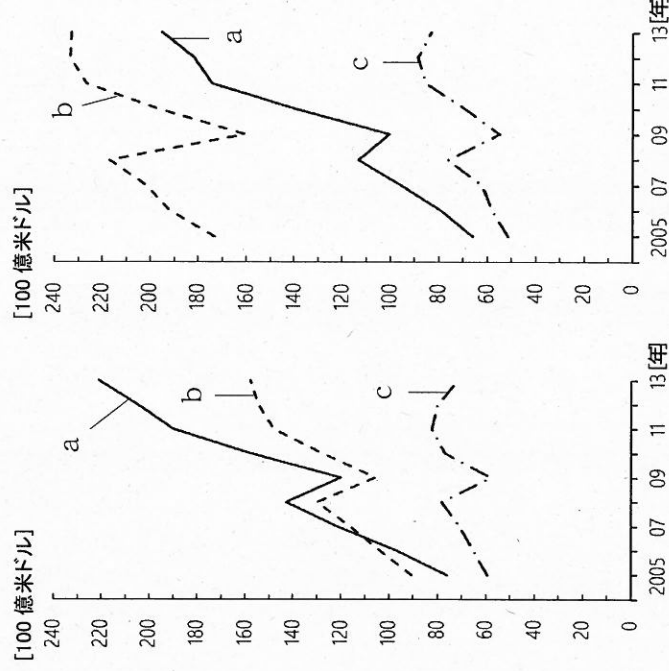


図1

図2

(『世界の統計2015』による。)

2 文章中の下線部②に関して、通貨の交換比率は為替レートとよばれます。為替レートが1ドル＝80円から1ドル＝100円になった場合、この為替変動は、日本で自動車を生産し輸出する企業にとって有利になりますか。不利になりますか。どちらかを選択して書きなさい。また、それを選択した理由について、具体例をあげて簡潔に1つ書きなさい。

3 文章中の下線部③に関して、特定の国や地域の間で輸出入等を有利に進めるための協定に、EPA (経済連携協定) と FTA (自由貿易協定) があります。それぞれのどのような協定ですか。簡潔に書きなさい。

4 文章中の下線部④に関して、貧困層の自立を支援するため、主に土地を所有していない貧困層を対象に小規模融資を行う銀行で、2006年にノーベル平和賞を受賞したバングラデシュの銀行を何といいますか。その名称を書きなさい。

## 28 高等学校 公民科 (倫理) 問題用紙

(7枚のうち7)

受験番号	氏名
------	----

(答えは、すべて解答用紙に記入すること。)

- 7 平成21年3月告示の高等学校学習指導要領 公民 倫理 3 内容の取扱い (1) には、内容の全体にわたって配慮する事項が示されています。このうち、先哲の基本的な考え方を取り上げるに当たって、どのようなことに配慮する必要がありますか。簡潔に書きなさい。
- 8 中江兆民は、その著書『三酔人経綸問答』のなかで、2種類の民権を取り上げ「進化の理」について説きました。「進化の理」とは、どのような主張ですか。2種類の民権の内容を踏まえて、簡潔に書きなさい。
- 9 荀子は、その著書『荀子』のなかで「人の性は悪なり、其の善なる者は偽なり」と述べ、性悪説を唱えました。荀子の唱える性悪説とは、どのような考え方ですか。簡潔に書きなさい。
- 10 デンマークの哲学者キルケゴールは、真の意味での実存にいたった者を単独者とよんでいます。単独者とは何ですか。実存の三段階を踏まえて簡潔に書きなさい。

(5枚のうち1)

受験番号		氏名	
------	--	----	--

問題番号		解答欄
1	1 (1)	
	1 (2)	
	2	
	3	
	4	
2	1	
	2	
	3	
	4	



(5枚のうち2)

受験番号		氏名	
------	--	----	--

問題番号		解答欄
3	1	
	2	
	3	
	4	
4	1	
	2	
	3	
	4	
	5	

(5枚のうち3)

受験番号		氏名	
------	--	----	--

問題番号		解答欄				
5	1					
	2					
	3					
	4					
	5	A		B		C
6	1					
	2	選択				
		理由				
	3	EPA				
FTA						
4						

28

高等学校 公民科（倫理） 解答用紙

(5枚のうち4)

受験番号		氏名	
------	--	----	--

問題番号	解答欄
7	
8	
9	

28

高等学校 公民科 (倫理) 解答用紙

(5枚のうち5)

受験番号		氏 名	
------	--	-----	--

問題番号	解答欄
10	