

(15枚のうち1)

受験番号		氏名	
------	--	----	--

(答えは、全て解答用紙に記入すること。)

【注意事項】

- 1 答えは、全て解答用紙に記入すること。
- 2 解答用紙は、マーク式解答用紙と記述式解答用紙の2種類がある。
- 3 問題①～④はマーク式問題、問題⑤～⑦は記述式問題である。マーク式問題の答えはマーク式解答用紙に、記述式問題の答えは記述式解答用紙に記入すること。
- 4 マーク式問題の答えは、問題で示された解答番号の欄にある数字をマークすること。例えば、解答番号1と表示のある問いに対して③と解答する場合は、次の(例)のようにマーク式解答用紙の解答番号1の解答欄③にマークすること。

(例)

解答番号	解 答 欄											
1	①	②	●	④	⑤	⑥	⑦	⑧	⑨	⑩	⑪	⑫

① あとの1～12に答えなさい。

1 次のA～Dは、国内の成文法を示しています。このA～Dを公法と私法に分類した組合せとして最も適切なものを、下の①～⑥の中から選び、その番号を答えなさい。解答番号1の解答欄にマークしなさい。

- | |
|---------|
| A 日本国憲法 |
| B 民法 |
| C 刑事訴訟法 |
| D 商法 |

	①	②	③	④	⑤	⑥
公法	A・B	A・C	A・D	B・C	B・D	C・D
私法	C・D	B・D	B・C	A・D	A・C	A・B

2 司法権の独立に関する記述として最も適切なものを、次の①～④の中から選び、その番号を答えなさい。解答番号2の解答欄にマークしなさい。

- ① 裁判官が憲法及び法律に拘束されることは、司法権の独立に反する。
- ② 国会の弾劾裁判所で裁判官を罷免することは、司法権の独立に反する。
- ③ 裁判官が法務大臣の命令に従って判決を下すことは、司法権の独立に反する。
- ④ 内閣が裁判所の下した判決について意見を述べることは、司法権の独立に反する。

6 高等学校 公民科（政治・経済） 問題用紙

(15枚のうち2)

受験番号		氏名	
------	--	----	--

(答えは、全て解答用紙に記入すること。)

3 次の文章A～Cは、キリスト教における原罪や贖罪についての思想に関する記述です。これらの文章の正誤の組合せとして最も適切なものを、下の①～⑧の中から選び、その番号を答えなさい。解答番号3の解答欄にマークしなさい。

著作権保護の観点により、掲載いたしません。

	①	②	③	④	⑤	⑥	⑦	⑧
A	正	正	正	正	誤	誤	誤	誤
B	正	正	誤	誤	正	正	誤	誤
C	正	誤	正	誤	正	誤	正	誤

4 認知発達段階説を説き、子供は、乳幼児期には他者も自分と同じ視点でものごとを捉えていると考える自己中心性が見られるが、児童期になると多くの観点からものごとを捉える脱中心化が生じると述べた人物として最も適切なものを、次の①～⑤の中から選び、その番号を答えなさい。解答番号4の解答欄にマークしなさい。

① レヴィ＝ストロース ② ハヴィガースト ③ マーガレット＝ミード ④ エリクソン ⑤ ピアジェ

5 次の文章中の「彼」に当たる人物として最も適切なものを、下の①～⑤の中から選び、その番号を答えなさい。解答番号5の解答欄にマークしなさい。

著作権保護の観点により、掲載いたしません。

① 安藤昌益 ② 石田梅岩 ③ 青木昆陽 ④ 二宮尊徳 ⑤ 宮崎安貞

6 高等学校 公民科（政治・経済） 問題用紙

(15枚のうち3)

受験番号		氏名	
------	--	----	--

(答えは、全て解答用紙に記入すること。)

6 次の〔著書〕の a・b は、思想家であるモンテーニュとパスカルのいずれかの著書、〔内容〕の X・Y は、その著書の内容を示しています。モンテーニュとパスカルそれぞれの著書と内容の組合せとして最も適切なものを、下の①～④の中から選び、その番号を答えなさい。解答番号 6 の解答欄にマークしなさい。

著作権保護の観点により、掲載いたしません。

	①	②	③	④
モンテーニュ	a・X	a・Y	b・X	b・Y
パスカル	b・Y	b・X	a・Y	a・X

7 次の表は、仮定の X 国の 2020 年及び 2021 年における、名目 GDP（億ドル）及び GDP デフレーター の値を示したものです。この表を基に、2020 年から 2021 年にかけての実質経済成長率（小数点以下は四捨五入）として最も適切なものを、下の①～⑥の中から選び、その番号を答えなさい。解答番号 7 の解答欄にマークしなさい。

	2020 年	2021 年
名目 GDP（億ドル）	440	540
GDP デフレーター	110	120

- ① 23% ② 13% ③ 9% ④ 0% ⑤ -9% ⑥ -13%

6 高等学校 公民科（政治・経済） 問題用紙

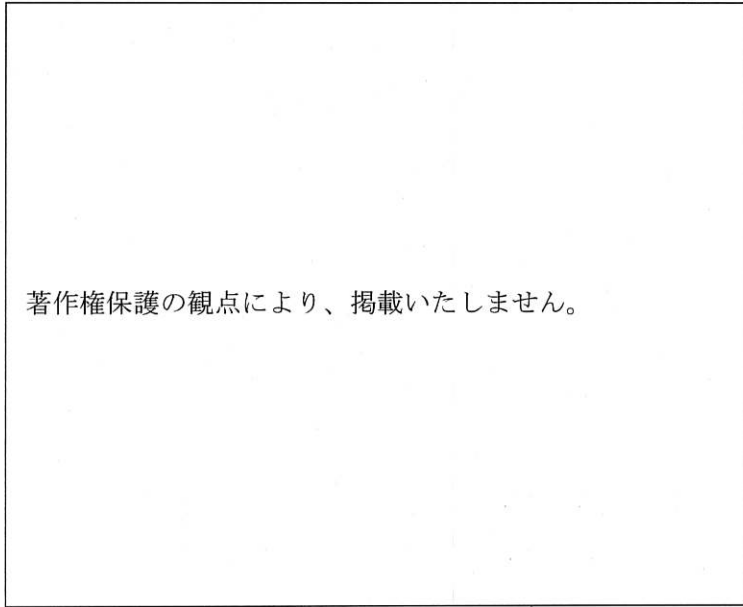
(15枚のうち4)

受験番号		氏名	
------	--	----	--

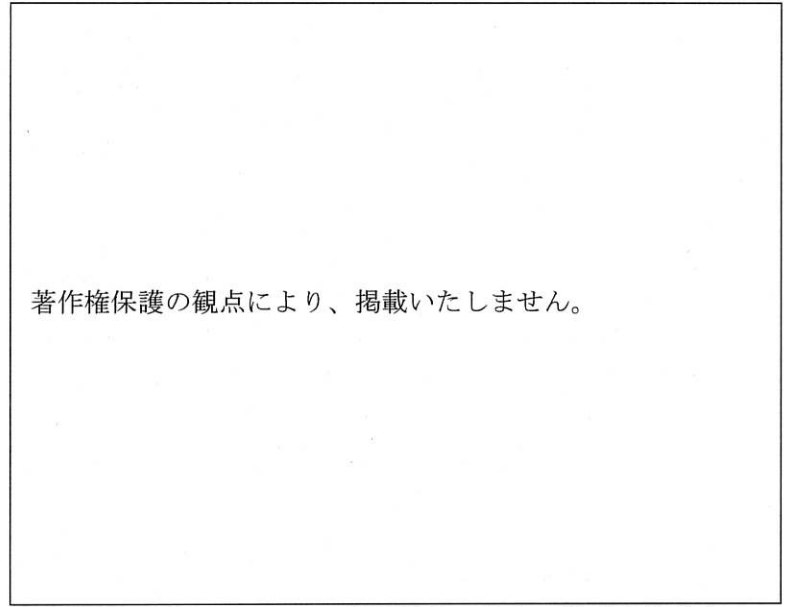
(答えは、全て解答用紙に記入すること。)

8 次の図Ⅰ・Ⅱは、日本の令和元年度決算、令和2年度決算における地方財政の歳入をそれぞれ示したものです。図Ⅰ・Ⅱに関する記述として適切ではないものを、下の①～④の中から選び、その番号を答えなさい。解答番号8の解答欄にマークしなさい。

図Ⅰ



図Ⅱ



(総務省ウェブページにより作成。)

- ① 図Ⅰにおける地方税額は、図Ⅱにおける地方税額より高い。
- ② 図Ⅰと図Ⅱの一般財源の割合は共に、全体の5割に満たない。
- ③ 図Ⅰと図Ⅱを比べると、図Ⅱのほうが地方債の歳入額が高い。
- ④ 図Ⅱの国庫支出金の額が、図Ⅰの国庫支出金の額より増加している主な原因は、新型コロナウイルス感染症対策に係る予算の増加である。

9 次の表は、国際連合安全保障理事会における、架空の実質事項に関する決議案A～Dについての表決の結果を示したものです。A～Dのうち、決議が成立するものを全て選んだとき、その組合せとして最も適切なものを、下の①～⑩の中から選び、その番号を答えなさい。解答番号9の解答欄にマークしなさい。

決議案	常任理事国					非常任理事国									
	1	2	3	4	5	6	7	8	9	10	11	12	13	14	15
A	×	○	○	○	○	×	○	×	○	○	×	×	×	○	×
B	×	×	×	×	×	○	○	○	○	○	○	○	○	○	○
C	○	○	○	○	○	○	×	×	○	×	×	○	×	×	○
D	○	○	○	○	○	○	×	○	×	○	○	×	×	○	×

※○は、「賛成」を示している。×は、「反対」を示している。

①	②	③	④	⑤	⑥	⑦	⑧	⑨	⑩
A	B	C	D	AとB	AとC	AとD	BとC	BとD	CとD

6 高等学校 公民科 (政治・経済) 問題用紙

(15枚のうち5)

受験番号		氏名	
------	--	----	--

(答えは、全て解答用紙に記入すること。)

10 次の表は、日本の国会の各会期における法律案の提出件数及び成立件数を示しており、空欄 (ア)・(イ) には国会の種類、空欄 ・ には法律案の種類が入ります。空欄 (ア)・(イ) と空欄 ・ に当てはまる語句の組合せとして最も適切なものを、下の①~④の中から選び、その番号を答えなさい。解答番号 10 の解答欄にマークしなさい。

著作権保護の観点により、掲載いたしません。

(内閣法制局ウェブページにより作成。)

- | | | | | | | | | |
|---|-----|-----|-----|-----|---|---------|---|---------|
| ① | (ア) | 臨時会 | (イ) | 常会 | A | 内閣提出法律案 | B | 議員立法 |
| ② | (ア) | 臨時会 | (イ) | 常会 | A | 議員立法 | B | 内閣提出法律案 |
| ③ | (ア) | 常会 | (イ) | 臨時会 | A | 内閣提出法律案 | B | 議員立法 |
| ④ | (ア) | 常会 | (イ) | 臨時会 | A | 議員立法 | B | 内閣提出法律案 |

11 現在の日本の公的年金制度に関する記述として適切ではないものを、次の①~④の中から選び、その番号を答えなさい。解答番号 11 の解答欄にマークしなさい。

- ① 日本の公的年金制度は、国民年金（基礎年金）と被用者を加入者とする厚生年金からなり、厚生年金は基礎年金に上乗せされて支給される。
- ② 日本の公的年金制度は、高齢者世代に支給する年金を、その時点の現役世代から徴収した年金保険料で賄う賦課方式を基本としている。
- ③ 国民年金（基礎年金）は、日本国内に住む 20 歳以上 60 歳未満の者が対象であるが、その加入は任意とされている。
- ④ 日本の公的年金制度は、年金額の伸びを物価や賃金の伸びより抑えるマクロ経済スライドが導入されている。

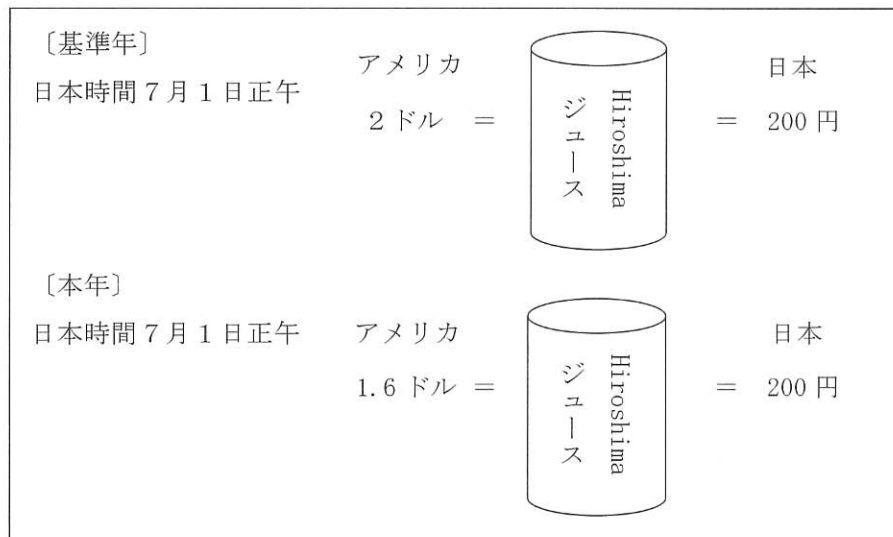
(15枚のうち6)

受験番号		氏名	
------	--	----	--

(答えは、全て解答用紙に記入すること。)

12 次の図は、日本とアメリカの基準年と本年における「Hiroshima ジュース」1本分の価格を示しています。下の文の空欄 に当てはまる語句として最も適切なものを、下の①～④の中から選び、その番号を答えなさい。ただし、解答に当たっては、「図に関する説明」を基に考えるものとします。解答番号12の解答欄にマークしなさい。

図



図に関する説明

・両国で販売されている「Hiroshima ジュース」は、基準年・本年ともに同一の商品であり、両国の物価水準は、「Hiroshima ジュース」1本分の販売価格でそれぞれ代表される。
・時差は考えないものとする。

・購買力平価説に基づいて算出される外国為替レートについて考えると、基準年の外国為替レートに対して、本年の外国為替レートは、。

- ① 1ドル当たり 125円の円安ドル高である
- ② 1ドル当たり 125円の円高ドル安である
- ③ 1ドル当たり 25円の円安ドル高である
- ④ 1ドル当たり 25円の円高ドル安である

6 高等学校 公民科 (政治・経済) 問題用紙

(15枚のうち7)

受験番号		氏名	
------	--	----	--

(答えは、全て解答用紙に記入すること。)

2 次の文章を読んで、あとの1～3に答えなさい。

著作権保護の観点により、掲載いたしません。

1 下線部㉑に関して、地球環境問題への取組に関する記述として最も適切なものを、次の①～④の中から選び、その番号を答えなさい。解答番号13の解答欄にマークしなさい。

- ① ナイロビでの国連人間環境会議では、人間環境宣言において地球環境の保護が人類共通の目的であるとした。
- ② モントリオール議定書では、水鳥の生息地として国際的に重要な湿地を登録・保護することを義務付けた。
- ③ ワシントン条約では、種の保存のために、絶滅の恐れがある野生動植物の取引の規制について定めた。
- ④ ラムサール条約では、オゾン層の保護のために、フロンガスなどの製造・消費・貿易の規制について定めた。

2 下線部㉒に関して、次の資料は日本における生物の多様性に関する条約の締結までとその後の流れを示しています。資料中の空欄 ～ に当てはまる語句の組合せとして最も適切なものを、下の①～④の中から選び、その番号を答えなさい。解答番号14の解答欄にマークしなさい。

著作権保護の観点により、掲載いたしません。

(外務省ウェブページにより作成。)

	A	B	C	D
①	採択	国会承認	効力発生	公布及び告示
②	採択	国会承認	公布及び告示	効力発生
③	国会承認	採択	効力発生	公布及び告示
④	国会承認	採択	公布及び告示	効力発生

6 高等学校 公民科（政治・経済） 問題用紙

(15枚のうち8)

受験番号		氏名	
------	--	----	--

(答えは、全て解答用紙に記入すること。)

- 3 下線部㊸に関して、次の資料は、令和3年10月22日に日本政府が閣議決定をした「パリ協定に基づく成長戦略としての長期戦略」の一部を示したものです。資料中の空欄 に当てはまる語句として最も適切なものを、下の①～④の中から選び、その番号を答えなさい。なお、同じ記号の空欄には同じ語句が入ります。解答番号15の解答欄にマークしなさい。

著作権保護の観点により、掲載いたしません。

(環境省ウェブページにより作成。)

- ① スマートシティ
- ② ゼロ・エミッション
- ③ カーボンプライシング
- ④ カーボンニュートラル

6 高等学校 公民科 (政治・経済) 問題用紙

(15枚のうち9)

受験番号		氏名	
------	--	----	--

(答えは、全て解答用紙に記入すること。)

3 次の文章を読んで、あとの1～3に答えなさい。

著作権保護の観点により、掲載いたしません。

1 下線部㉑に関して、次のア～ウは、キルケゴールの実存の三段階の各段階のいずれかを示したものです。それぞれの段階について述べたものの組合せとして最も適切なものを、下の①～⑥の中から選び、その番号を答えなさい。解答番号16の解答欄にマークしなさい。

ア 「あれか、これか」を決断することで、享楽を捨て、自己の良心に従って義務を果たそうとするが、義務を果たしきれない無力さに直面し、挫折してしまう段階。

イ 人間はただ一人「単独者」として神の前に立ち、かけがえのない独自の存在としての本来的自己を回復し、絶望から解放される段階。

ウ 「あれも、これも」と快楽を追求することで人生を充実させようとするあり方であるが、やがて、欲望や享楽の奴隷となり、自己を見失う段階。

	①	②	③	④	⑤	⑥
第一段階	ア	ア	イ	イ	ウ	ウ
第二段階	イ	ウ	ア	ウ	ア	イ
第三段階	ウ	イ	ウ	ア	イ	ア

2 下線部㉒に関して、次の文章は「ツァラトゥストラ」の一部を示しています。文章中の下線部が指すものとして最も適切なものを、下の①～④の中から選び、その番号を答えなさい。解答番号17の解答欄にマークしなさい。

著作権保護の観点により、掲載いたしません。

- ① 神
- ② 怨恨 (ルサンチマン)
- ③ 虚無主義 (ニヒリズム)
- ④ 超人

6 高等学校 公民科（政治・経済） 問題用紙

(15枚のうち10)

受験番号		氏名	
------	--	----	--

(答えは、全て解答用紙に記入すること。)

3 下線部㊸に関して、次の文章A～Dは、実存主義の思想家によって述べられたものです。ハイデガー、サルトルが述べたものの組合せとして最も適切なものを、下の①～⑫の中から選び、その番号を答えなさい。解答番号18の解答欄にマークしなさい。

A

著作権保護の観点により、掲載いたしません。

B

著作権保護の観点により、掲載いたしません。

C

著作権保護の観点により、掲載いたしません。

D

著作権保護の観点により、掲載いたしません。

	①	②	③	④	⑤	⑥	⑦	⑧	⑨	⑩	⑪	⑫
ハイデガー	A	A	A	B	B	B	C	C	C	D	D	D
サルトル	B	C	D	A	C	D	A	B	D	A	B	C

(15枚のうち11)

受験番号		氏名	
------	--	----	--

(答えは、全て解答用紙に記入すること。)

4 企業と家計について、あとの1～3に答えなさい。

1 現在の株式会社に関する記述として適切ではないものを、次の①～④の中から選び、その番号を答えなさい。解答番号19の解答欄にマークしなさい。

- ① 株主の権利として、経営に参画する権利、配当を受け取る権利などがある。
- ② 株式会社が倒産した場合、株主は出資した金額が返ってこないだけで、それ以上の弁済をする必要はない。
- ③ 株式会社を設立する場合の最低資本金は1000万円である。
- ④ 経営者が不法行為などにより、株主の利益を損ねた場合、株主が取締役に損害賠償請求をすることができる。

2 次の表は、架空の日本企業X社(自己資本比率20%)の貸借対照表を示したものです。表中の空欄 ～ に当てはまる語句の組合せとして最も適切なものを、下の①～④の中から選び、その番号を答えなさい。なお、同じ記号の空欄には同じ語句が入ります。解答番号20の解答欄にマークしなさい。

X社の貸借対照表

資産の部		<input type="text" value="A"/> ・純資産の部
現金・預金	4億円	<input type="text" value="A"/> の部
土地	4億円	銀行借入 5億円
建物	2億円	社債発行 <input type="text" value="B"/> 億円
		純資産の部
		資本金 <input type="text" value="C"/> 億円
総資産	合計10億円	総資本 合計10億円

	A	B	C
①	費用	3	2
②	費用	2	3
③	負債	3	2
④	負債	2	3

6 高等学校 公民科（政治・経済） 問題用紙

(15枚のうち12)

受験番号		氏名	
------	--	----	--

(答えは、全て解答用紙に記入すること。)

- 3 次の表は、架空の勤労者世帯の1カ月分の実収入額440,000円についての家計支出額の内訳を示したものです。この世帯の可処分所得とエンゲル係数(小数第2位を四捨五入)を求めたときその数値の組合せとして最も適切なものを、下の①～⑥の中から選び、その番号を答えなさい。解答番号21の解答欄にマークしなさい。

著作権保護の観点により、掲載いたしません。

	可処分所得 [円]	エンゲル係数 [%]
①	350,000	25.0
②	350,000	20.0
③	350,000	15.9
④	280,000	25.0
⑤	280,000	20.0
⑥	280,000	15.9

(15枚のうち13)

受験番号		氏名	
------	--	----	--

(答えは、全て解答用紙に記入すること。)

- 5 次の文は、平成30年3月告示の高等学校学習指導要領 公民科 政治・経済 目標 の一部を示したものです。下線部の「社会の在り方についての見方・考え方」は、どのようなものですか。簡潔に書きなさい。答えは記述式解答用紙に書きなさい。

社会の在り方についての見方・考え方を働かせ、現代の諸課題を追究したり解決に向けて構想したりする活動を通して、広い視野に立ち、グローバル化する国際社会に主体的に生きる平和で民主的な国家及び社会の有為な形成者に必要な公民としての資質・能力を次のとおり育成することを目指す。

6 高等学校 公民科 (政治・経済) 問題用紙

(15枚のうち14)

受験番号		氏名	
------	--	----	--

(答えは、全て解答用紙に記入すること。)

- 6 次の需要曲線D1・D2は、「ぜいたく品」(ダイヤモンドの指輪など)又は「生活必需品」(塩や砂糖など)のいずれかの需要曲線を示しています。D1、D2がそれぞれどちらに当たるか書きなさい。また、そのように判断した理由を、「価格弾力性」という語句を用いてそれぞれ簡潔に書きなさい。答えは記述式解答用紙に書きなさい。

著作権保護の観点により、掲載いたしません。

6 高等学校 公民科（政治・経済） 問題用紙

(15枚のうち15)

受験番号		氏名	
------	--	----	--

(答えは、全て解答用紙に記入すること。)

7 「公共」の授業で、功利主義と義務論の考え方を理解させるために、環境と人間社会の問題を題材に学習することとします。次の資料Ⅰは、単元を貫く問い及び単元の評価規準を示しています。下の資料Ⅱは、授業で使用する資料を示しています。資料Ⅱの事象の解決方法を見出すに当たり、義務論の考え方を理解させるために、どのような問いを用いて考察させますか。また、この考察を表現した生徒の記述として、「おおむね満足できる」状況（B）を満たす記述とはどのようなものですか。下の資料Ⅲの考察例を参考にしてそれぞれ簡潔に書きなさい。答えは記述式解答用紙に書きなさい。

資料Ⅰ

【単元を貫く問い】

公共的な空間をどのように作っていけばよいだろうか。

【単元の評価規準】

選択・判断の手掛かりとして、行為の結果である個人や社会全体の幸福を重視する考え方や、行為の動機となる公正などの義務を重視する考え方などについて理解している。(知識・技能)

幸福、正義、公正などに着目して、公共的な空間における基本的原理について、思考実験など概念的な枠組みを用いて考察する活動を通して、個人と社会との関わりにおいて多面的・多角的に考察し、表現している。(思考・判断・表現)

公共的な空間を作る私たち、公共的な空間における人間としての在り方生き方、公共的な空間における基本原理について、よりよい社会の実現を視野に、現代の諸課題を主体的に解決しようとしている。(主体的に学習に取り組む態度)

資料Ⅱ

著作権保護の観点により、掲載いたしません。

資料Ⅲ 「功利主義を理解させるための問い」と「おおむね満足できる」状況（B）を満たす生徒の考察例

【問い】

・道路と橋の建設は、島の「誰に」、「どのような利益又は不利益」をもたらすだろうか。
 ・生じるであろう利益・不利益とそれらが及ぼす影響の範囲のみで考えた場合、道路と橋の建設は、島の人にとってはよいことなのだろうか。

【例】

道路と橋の建設によって、島民の立ち退きや自然環境への影響が生じるかもしれないが、島民や地域全体の交通アクセスが改善され、それによる島民の福祉や生活の利便性の向上や地域振興などのメリットが期待できる。自然環境に少しでも配慮した工事や立ち退き島民への補償によって、犠牲を最小限にとどめ、全体の利益が増加する。このことから、この開発は、一部の犠牲を払うことより島全体の利益を高めることにつながるので、望ましい選択といえる。

「義務論を理解させるための問い」と「おおむね満足できる」状況（B）を満たす生徒の考察例

【問い】

【例】

氏 名

⑥ 高等学校 公民科 (政治・経済) マーク式解答用紙

受験番号

0	0	0	0	0	0
1	1	1	1	1	1
2	2	2	2	2	2
3	3	3	3	3	3
4	4	4	4	4	4
5	5	5	5	5	5
6	6	6	6	6	6
7	7	7	7	7	7
8	8	8	8	8	8
9	9	9	9	9	9

〔記入上の注意〕

- 余白には何も記入しないでください。
- HBまたはBの鉛筆で該当する ○ にマークしてください。
マーク例 <良い例> ●
<悪い例> ◊ ◌ ⊗
- 訂正するときは、消しゴムで完全に消してください。
- 受験番号については、6桁の数字を記入したうえで、該当する ○ にマークしてください。

1	解答番号	解 答 欄											
	1	①	②	③	④	⑤	⑥	⑦	⑧	⑨	⑩	⑪	⑫
	2	①	②	③	④	⑤	⑥	⑦	⑧	⑨	⑩	⑪	⑫
	3	①	②	③	④	⑤	⑥	⑦	⑧	⑨	⑩	⑪	⑫
	4	①	②	③	④	⑤	⑥	⑦	⑧	⑨	⑩	⑪	⑫
	5	①	②	③	④	⑤	⑥	⑦	⑧	⑨	⑩	⑪	⑫
	6	①	②	③	④	⑤	⑥	⑦	⑧	⑨	⑩	⑪	⑫
	7	①	②	③	④	⑤	⑥	⑦	⑧	⑨	⑩	⑪	⑫
	8	①	②	③	④	⑤	⑥	⑦	⑧	⑨	⑩	⑪	⑫
	9	①	②	③	④	⑤	⑥	⑦	⑧	⑨	⑩	⑪	⑫
	10	①	②	③	④	⑤	⑥	⑦	⑧	⑨	⑩	⑪	⑫
	11	①	②	③	④	⑤	⑥	⑦	⑧	⑨	⑩	⑪	⑫
	12	①	②	③	④	⑤	⑥	⑦	⑧	⑨	⑩	⑪	⑫

3	解答番号	解 答 欄											
	16	①	②	③	④	⑤	⑥	⑦	⑧	⑨	⑩	⑪	⑫
	17	①	②	③	④	⑤	⑥	⑦	⑧	⑨	⑩	⑪	⑫
	18	①	②	③	④	⑤	⑥	⑦	⑧	⑨	⑩	⑪	⑫

4	解答番号	解 答 欄											
	19	①	②	③	④	⑤	⑥	⑦	⑧	⑨	⑩	⑪	⑫
	20	①	②	③	④	⑤	⑥	⑦	⑧	⑨	⑩	⑪	⑫
	21	①	②	③	④	⑤	⑥	⑦	⑧	⑨	⑩	⑪	⑫

2	解答番号	解 答 欄											
	13	①	②	③	④	⑤	⑥	⑦	⑧	⑨	⑩	⑪	⑫
	14	①	②	③	④	⑤	⑥	⑦	⑧	⑨	⑩	⑪	⑫
	15	①	②	③	④	⑤	⑥	⑦	⑧	⑨	⑩	⑪	⑫

6

高等学校 公民科 (政治・経済) 記述式解答用紙

(2枚のうち1)

受験番号		氏名	
------	--	----	--

1~4については、マーク式解答用紙に記入すること。

問題番号	解答欄		
5			
6	記号	ぜいたく品	
		生活必需品	
	理由		

6

高等学校 公民科 (政治・経済) 記述式解答用紙

(2枚のうち2)

受験番号		氏名	
------	--	----	--

問題番号	解答欄	
7	問	
	記述	