

7 中学校 社会科 問題用紙

(17枚のうち1)

| | | | |
|------|--|----|--|
| 受験番号 | | 氏名 | |
|------|--|----|--|

(答えは、全て解答用紙に記入すること。)

【注意事項】

- 1 答えは、全て解答用紙に記入すること。
- 2 解答用紙は、マーク式解答用紙と記述式解答用紙の2種類がある。
- 3 問題①～④はマーク式問題、問題⑤～⑦は記述式問題である。マーク式問題の答えはマーク式解答用紙に、記述式問題の答えは記述式解答用紙に記入すること。
- 4 マーク式問題の答えは、問題で示された解答番号の欄にある数字をマークすること。例えば、解答番号1と表示のある問いに対して③と解答する場合は、次の(例)のようにマーク式解答用紙の解答番号1の解答欄③にマークすること。

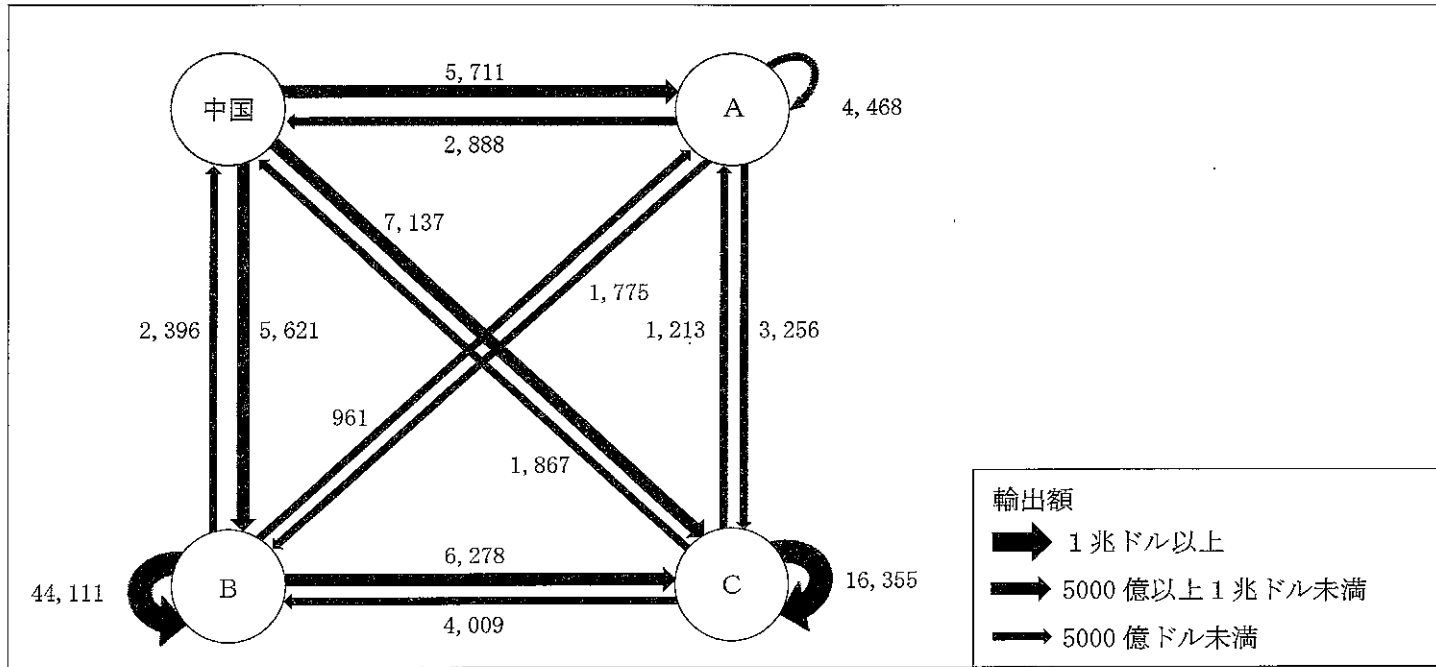
(例)

| | | | | | | | | | | | | |
|----------|-------|---|---|---|---|---|---|---|---|---|---|---|
| 解答 番号 | 解 答 欄 | | | | | | | | | | | |
| 1 | ① | ② | ● | ④ | ⑤ | ⑥ | ⑦ | ⑧ | ⑨ | ⑩ | ⑪ | ⑫ |

1 あとの1～12に答えなさい。

1 次の図は、2022年における世界の主な国・地域間及び主な国・地域内での輸出額を示したものであり、図中のA～Cには、ASEAN、EU、USMCAのいずれかが当てはまります。地域連合又は貿易協定の名称とA～Cの組合せとして最も適切なものを、下の①～⑥の中から選び、その番号を答えなさい。解答番号1の解答欄にマークしなさい。

[億ドル]



(日本貿易振興機構ウェブページにより作成。)

| | | | | | | |
|-------|---|---|---|---|---|---|
| | ① | ② | ③ | ④ | ⑤ | ⑥ |
| ASEAN | A | A | B | B | C | C |
| EU | B | C | A | C | A | B |
| USMCA | C | B | C | A | B | A |

7 中学校 社会科 問題用紙

(17枚のうち2)

| | | | |
|------|--|----|--|
| 受験番号 | | 氏名 | |
|------|--|----|--|

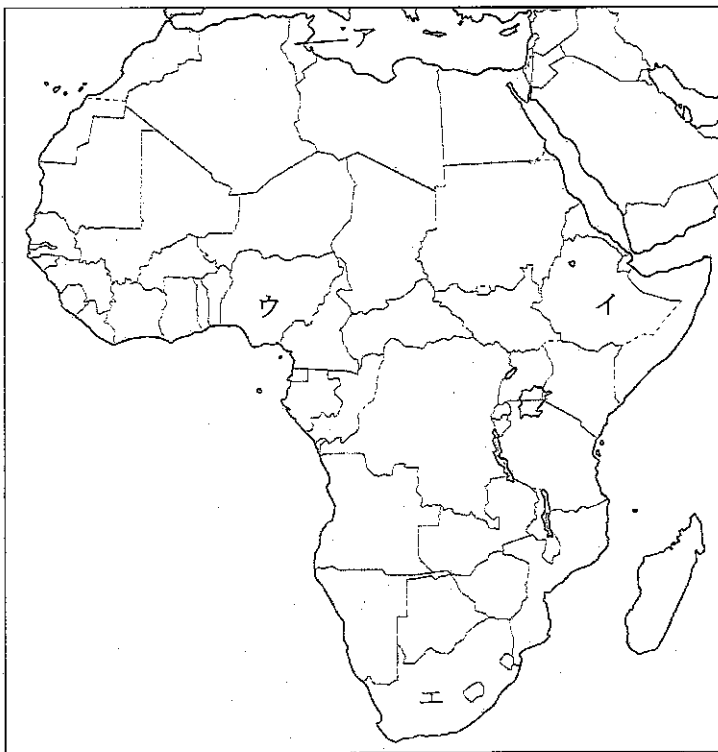
(答えは、全て解答用紙に記入すること。)

2 次の表は、2020年における国別の一人1日当たり食料供給量を示しており、表中の空欄 **A** ~ **D** にはそれぞれ、下の地図中のア~エの国のいずれかが当てはまります。空欄 **A** ~ **D** に当てはまる国の組合せとして最も適切なものを、下の①~⑧の中から選び、その番号を答えなさい。解答番号2の解答欄にマークしなさい。

[g]

著作権保護の観点により、掲載いたしません。

(「世界国勢図会 2023/24」により作成。)



| | ① | ② | ③ | ④ | ⑤ | ⑥ | ⑦ | ⑧ |
|---|---|---|---|---|---|---|---|---|
| A | ア | ア | イ | イ | ウ | ウ | エ | エ |
| B | イ | ウ | ア | エ | エ | ア | イ | ウ |
| C | ウ | エ | ウ | ア | イ | エ | ア | イ |
| D | エ | イ | エ | ウ | ア | イ | ウ | ア |

7 中学校 社会科 問題用紙

(17枚のうち3)

| | | | |
|------|--|----|--|
| 受験番号 | | 氏名 | |
|------|--|----|--|

(答えは、全て解答用紙に記入すること。)

3 次のグラフは、2021年における地域別の農業産出額の割合及び産出額を示しており、グラフ中の空欄 ~ にはそれぞれ、東北、関東・東山、九州のいずれかが当てはまります。空欄 ~ に当てはまる地域名の組合せとして最も適切なものを、下の①~⑥の中から選び、その番号を答えなさい。解答番号3の解答欄にマークしなさい。

著作権保護の観点により、掲載いたしません。

(「日本国勢図会 2023/24」により作成。)

| | ① | ② | ③ | ④ | ⑤ | ⑥ |
|---|-------|-------|-------|-------|-------|-------|
| A | 東北 | 東北 | 関東・東山 | 関東・東山 | 九州 | 九州 |
| B | 関東・東山 | 九州 | 東北 | 九州 | 東北 | 関東・東山 |
| C | 九州 | 関東・東山 | 九州 | 東北 | 関東・東山 | 東北 |

7 中学校 社会科 問題用紙

(17枚のうち4)

| | | | |
|------|--|----|--|
| 受験番号 | | 氏名 | |
|------|--|----|--|

(答えは、全て解答用紙に記入すること。)

4 次の表は、東京都、大阪府、岡山県、高知県の地形別面積を示しており、表中の **A** ~ **D** には東京都、大阪府、岡山県、高知県のいずれかが当てはまります。空欄 **A** ~ **D** に当てはまる都府県名の組合せとして最も適切なものを、下の①~④の中から選び、その番号を答えなさい。解答番号4の解答欄にマークしなさい。

[3点]

著作権保護の観点により、掲載いたしません。

(「データでみる県勢 2023年版」により作成。)

| | ① | ② | ③ | ④ |
|---|-----|-----|-----|-----|
| A | 東京都 | 東京都 | 大阪府 | 大阪府 |
| B | 大阪府 | 大阪府 | 東京都 | 東京都 |
| C | 高知県 | 岡山県 | 高知県 | 岡山県 |
| D | 岡山県 | 高知県 | 岡山県 | 高知県 |

(17枚のうち5)

| | | | |
|------|--|----|--|
| 受験番号 | | 氏名 | |
|------|--|----|--|

(答えは、全て解答用紙に記入すること。)

5 縄文時代と弥生時代の生活や文化について述べたものとして適切ではないものを、次の①～④の中から選び、その番号を答えなさい。解答番号5の解答欄にマークしなさい。

- ① 縄文時代には、中・小型動物を射とめる狩猟具の弓矢や、全面を磨いてつくった磨製石器が現れた。
- ② 縄文時代には、健康な歯を抜く抜歯の風習が盛んになり、屈葬という手足を折り曲げた埋葬が行われた。
- ③ 弥生時代には、水稻耕作が行われ、祭りには、銅鐸・銅剣・銅矛・銅戈などの青銅製祭器が用いられた。
- ④ 弥生時代には、小国が分立する戦いの時代に入り、三内丸山遺跡のような環濠集落や、高地性集落が現れた。

6 次の文章は、江戸時代の思想に関する記述です。文章中の空欄 ～ に入る語句の組合せとして最も適切なものを、下の①～⑧の中から選び、その番号を答えなさい。解答番号6の解答欄にマークしなさい。

幕府による直営の昌平坂学問所や、全国の藩による藩校では儒学による武士やその子弟の教育が行われた。また、民間でも、武士・学者・町人により各地で私塾が開かれ、儒学、蘭学、国学などが講義された。儒学では、17世紀後半に によって京都に古義堂が開かれ、蘭学では、18世紀後半に によって江戸に芝蘭堂が開かれた。また、国学では、本居宣長の死後、平田篤胤による が盛んになった。

| | ア | イ | ウ |
|---|------|------|------|
| ① | 荻生徂徠 | 緒方洪庵 | 復古神道 |
| ② | 荻生徂徠 | 緒方洪庵 | 垂加神道 |
| ③ | 荻生徂徠 | 大槻玄沢 | 復古神道 |
| ④ | 荻生徂徠 | 大槻玄沢 | 垂加神道 |
| ⑤ | 伊藤仁斎 | 緒方洪庵 | 復古神道 |
| ⑥ | 伊藤仁斎 | 緒方洪庵 | 垂加神道 |
| ⑦ | 伊藤仁斎 | 大槻玄沢 | 復古神道 |
| ⑧ | 伊藤仁斎 | 大槻玄沢 | 垂加神道 |

(17枚のうち6)

| | | | |
|------|--|----|--|
| 受験番号 | | 氏名 | |
|------|--|----|--|

(答えは、全て解答用紙に記入すること。)

7 次の文(ア)～(エ)は、20世紀前半の日本の政治に関する記述です。(ア)～(エ)を年代の古い順に並べたものとして最も適切なものを、下の①～⑧の中から選び、その番号を答えなさい。解答番号7の解答欄にマークしなさい。

- (ア) 国際連盟における満州国承認の撤回を求める勧告案の採択を受けて、政府は国際連盟からの脱退を通告した。
- (イ) 議会の承認なしに、政府に戦争遂行に必要な物資や労働力を動員する権限を与える国家総動員法が制定された。
- (ウ) ロンドン海軍軍備制限条約に批准した内閣の首相が、東京駅で右翼青年に狙撃されて重傷を負った。
- (エ) 陸軍皇道派の一部青年将校たちが、約1,400人の兵を率いて首相官邸・警視庁などを襲った二・二六事件が起きた。

- | | |
|-------------------------|-------------------------|
| ① (ア) → (イ) → (エ) → (ウ) | ② (ア) → (ウ) → (エ) → (イ) |
| ③ (イ) → (ウ) → (ア) → (エ) | ④ (イ) → (エ) → (ア) → (ウ) |
| ⑤ (ウ) → (ア) → (エ) → (イ) | ⑥ (ウ) → (エ) → (イ) → (ア) |
| ⑦ (エ) → (イ) → (ウ) → (ア) | ⑧ (エ) → (ウ) → (ア) → (イ) |

8 次の文ア～ウは、GHQによる日本統治が行われていた時期の経済に関する記述です。その正誤の組合せとして最も適切なものを、下の①～⑧の中から選び、その番号を答えなさい。解答番号8の解答欄にマークしなさい。

- ア 幣原喜重郎内閣は、金融緊急措置令により、預金を封鎖してそれまで使用されていた旧円の流通を禁止し、新円の引出しを制限することによって貨幣流通量を減らそうとしたが、効果は一時的であった。
- イ 第1次吉田茂内閣は、経済安定本部を設置し、資材と資金を石炭・鉄鋼などの重要産業部門に集中する傾斜生産方式を閣議決定した。
- ウ 第3次吉田茂内閣は、ドッジの要求に従い、まったく赤字を許さない予算を編成して財政支出を大幅に削減するとともに、単一為替レートを導入して国際競争の中で輸出の振興をはかった。

| | ① | ② | ③ | ④ | ⑤ | ⑥ | ⑦ | ⑧ |
|---|---|---|---|---|---|---|---|---|
| ア | 正 | 正 | 正 | 正 | 誤 | 誤 | 誤 | 誤 |
| イ | 正 | 正 | 誤 | 誤 | 正 | 正 | 誤 | 誤 |
| ウ | 正 | 誤 | 正 | 誤 | 正 | 誤 | 正 | 誤 |

(17枚のうち7)

| | | | |
|------|--|----|--|
| 受験番号 | | 氏名 | |
|------|--|----|--|

(答えは、全て解答用紙に記入すること。)

9 現在の日本の成年に関する記述として適切ではないものを、次の①～⑥の中から選び、その番号を答えなさい。解答番号9の解答欄にマークしなさい。

- ① 18歳は、親の同意がなくても携帯電話の契約ができる。
- ② 18歳は、男女ともに、親の同意がなくても婚姻が可能である。
- ③ 18歳は、10年有効のパスポートを取得することができる。
- ④ 18歳は、自動車の第一種運転免許のうち、大型自動車免許は取得できないが、普通自動車免許は取得できる。
- ⑤ 18歳は、公営競技(競馬、競輪、オートレース、競艇)の投票券(馬券など)を買うことができる。
- ⑥ 18歳は、家庭裁判所で性別の取扱いの変更審判を受けることができる。

10 次の年表は、ヨーロッパにおける地域的統合とそれに関わるできごとの一部を示しています。また、下のア～ウは、年表中の空欄 A ～ C のいずれかに当てはまるできごとを示しています。空欄 A ～ C に当てはまるできごとの組合せとして最も適切なものを、下の①～⑥の中から選び、その番号を答えなさい。解答番号10の解答欄にマークしなさい。

| | |
|-------|---|
| 1952年 | 欧州石炭鉄鋼共同体(ECSC)設立(パリ条約発効) |
| 1958年 | 欧州経済共同体(EEC)、欧州原子力共同体(EURATOM)設立(ローマ条約発効) |
| 1967年 | 3共同体の主要機関統合、欧州共同体(EC)発足 |
| 1979年 | 欧州議会初の直接選挙実施、 A |
| 1989年 | ベルリンの壁崩壊 |
| 1993年 | マーストリヒト条約発効、欧州連合(EU)発足 |
| 1998年 | B |
| 1999年 | アムステルダム条約発効 |
| 2002年 | C |
| 2003年 | ニース条約発効 |
| 2009年 | リスボン条約発効 |
| 2010年 | ギリシャ財政危機の深刻化によるユーロ危機 |
| 2020年 | イギリス、EUを離脱 |

- ア 欧州中央銀行(ECB)設立
- イ 欧州通貨制度(EMS)導入
- ウ ユーロ紙幣・硬貨の流通開始

| | A | B | C |
|---|---|---|---|
| ① | ア | イ | ウ |
| ② | ア | ウ | イ |
| ③ | イ | ア | ウ |
| ④ | イ | ウ | ア |
| ⑤ | ウ | ア | イ |
| ⑥ | ウ | イ | ア |

7 中学校 社会科 問題用紙

(17枚のうち8)

| | | | |
|------|--|----|--|
| 受験番号 | | 氏名 | |
|------|--|----|--|

(答えは、全て解答用紙に記入すること。)

11 次の文章は、仮想の日本企業X社がユーロ圏に輸出した際の為替相場と売上額について説明したものです。この文章中の空欄 **A** ・ **B** に当てはまる語句の組合せとして最も適切なものを、下の①～④の中から選び、その番号を答えなさい。解答番号11の解答欄にマークしなさい。

為替相場が1ユーロ=120円である時、X社は自社製品をユーロ圏で販売し2億ユーロの売上げがあった。その半年後、為替相場は、**A** 方向に変動して1ユーロ=150円となったが、変わらず2億ユーロの売上げがあった。このX社の売上額を円換算すると、半年前と比べて **B** したことになる。

| | A | B |
|---|--------|--------|
| ① | 円安ユーロ高 | 60億円増加 |
| ② | 円安ユーロ高 | 60億円減少 |
| ③ | 円高ユーロ安 | 60億円増加 |
| ④ | 円高ユーロ安 | 60億円減少 |

12 次の表は、令和4年度の都道府県歳入中に占める税収入の都道府県別割合を示しており、表中の空欄 **A** ～ **C** には、それぞれ愛知県、兵庫県、北海道のいずれかが当てはまります。空欄 **A** ～ **C** に当てはまる語句の組合せとして最も適切なものを、下の①～⑥の中から選び、その番号を答えなさい。解答番号12の解答欄にマークしなさい。

著作権保護の観点により、掲載いたしません。

(総務省ウェブページにより作成。)

| | ① | ② | ③ | ④ | ⑤ | ⑥ |
|---|-----|-----|-----|-----|-----|-----|
| A | 愛知県 | 愛知県 | 兵庫県 | 兵庫県 | 北海道 | 北海道 |
| B | 兵庫県 | 北海道 | 愛知県 | 北海道 | 愛知県 | 兵庫県 |
| C | 北海道 | 兵庫県 | 北海道 | 愛知県 | 兵庫県 | 愛知県 |

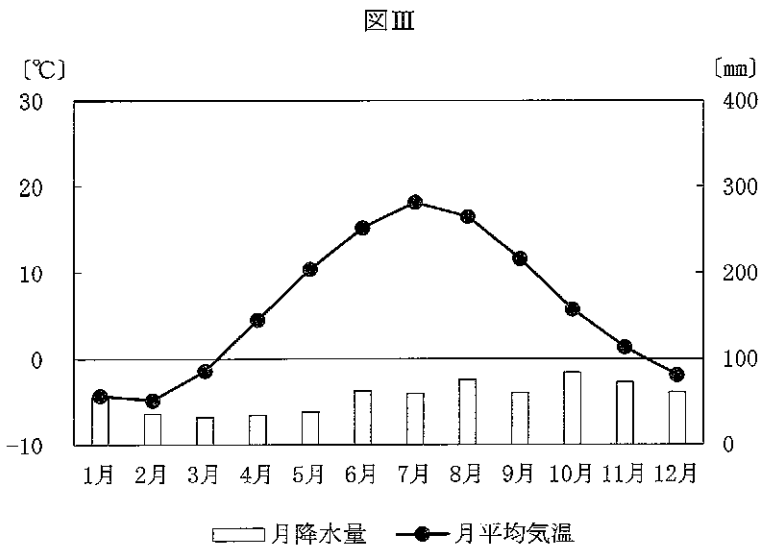
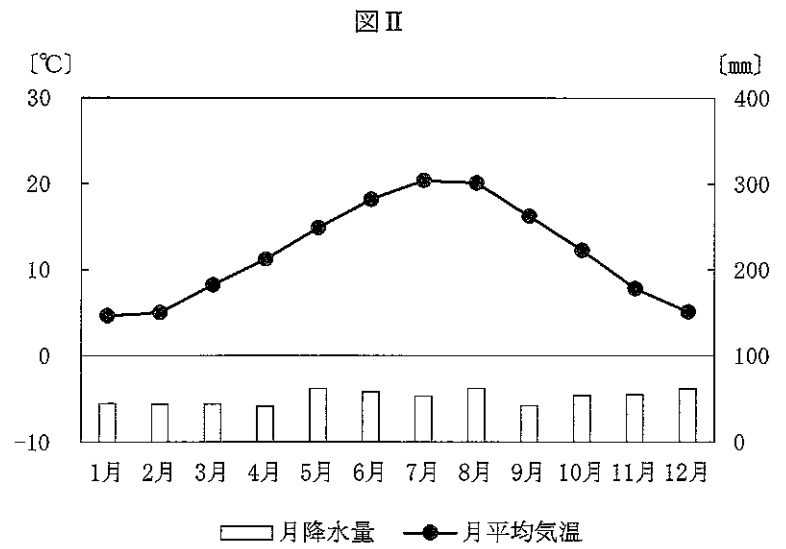
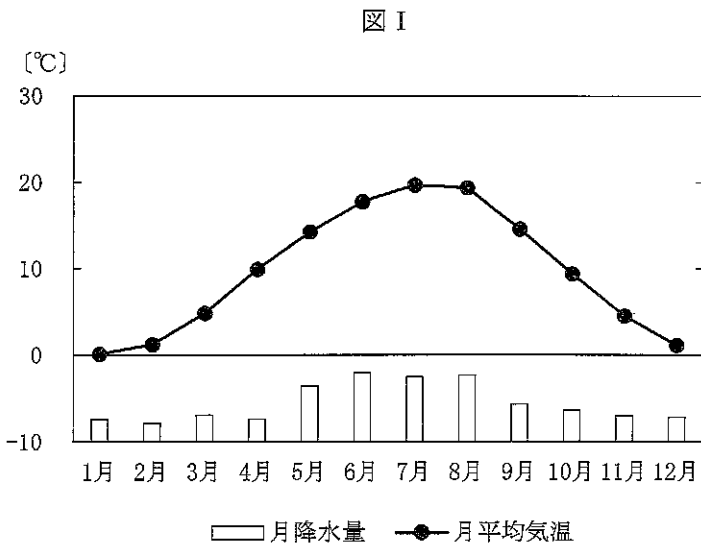
(17枚のうち9)

| | | | |
|------|--|----|--|
| 受験番号 | | 氏名 | |
|------|--|----|--|

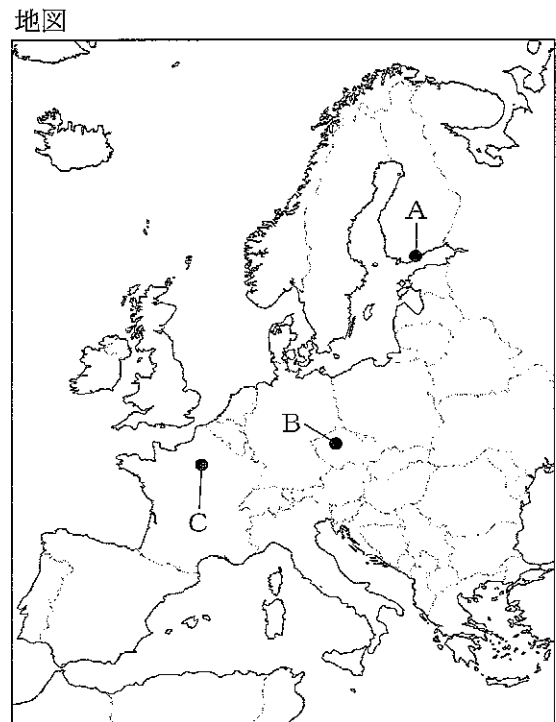
(答えは、全て解答用紙に記入すること。)

2 ヨーロッパに関して、あとの1~3に答えなさい。

1 次の図I~IIIは、地図中のA~Cの地点のいずれかの雨温図を示したものです。地点と雨温図の組合せとして最も適切なものを、下の①~⑥の中から選び、その番号を答えなさい。解答番号13の解答欄にマークしなさい。



(気象庁ウェブページにより作成。)



| | ① | ② | ③ | ④ | ⑤ | ⑥ |
|---|-------|-------|-------|-------|-------|-------|
| A | 図 I | 図 I | 図 II | 図 II | 図 III | 図 III |
| B | 図 II | 図 III | 図 I | 図 III | 図 I | 図 II |
| C | 図 III | 図 II | 図 III | 図 I | 図 II | 図 I |

7 中学校 社会科 問題用紙

(17枚のうち10)

| | | | |
|------|--|----|--|
| 受験番号 | | 氏名 | |
|------|--|----|--|

(答えは、全て解答用紙に記入すること。)

2 次の表は、オーストリア、スウェーデン、ドイツの2021年における1人当たりGNI(名目)と、人口の自然増減率及び社会増減率を示しており、表中の **A** ~ **C** には、オーストリア、スウェーデン、ドイツのいずれかが当てはまります。

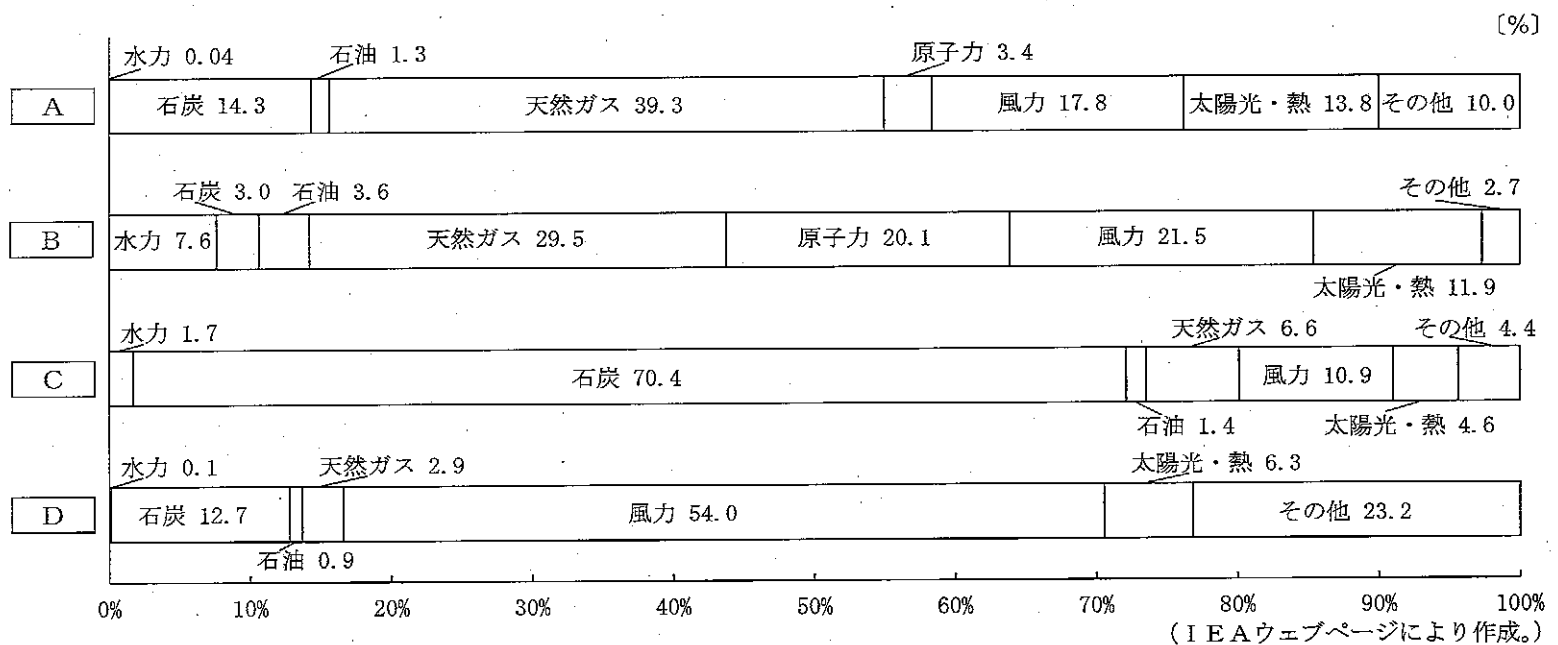
A ~ **C** に当てはまる国名の組合せとして最も適切なものを、下の①~⑥の中から選び、その番号を答えなさい。解答番号14の解答欄にマークしなさい。

著作権保護の観点により、掲載いたしません。

(「世界国勢図会 2023/24年版」により作成。)

| | ① | ② | ③ | ④ | ⑤ | ⑥ |
|---|--------|--------|--------|--------|--------|--------|
| A | オーストリア | オーストリア | スウェーデン | スウェーデン | ドイツ | ドイツ |
| B | スウェーデン | ドイツ | オーストリア | ドイツ | オーストリア | スウェーデン |
| C | ドイツ | スウェーデン | ドイツ | オーストリア | スウェーデン | オーストリア |

3 次のグラフは、オランダ、スペイン、デンマーク、ポーランドの2022年における発電エネルギー源別割合を示しており、グラフ中の **A** ~ **D** には、オランダ、スペイン、デンマーク、ポーランドのいずれかが当てはまります。 **A** ~ **D** に当てはまる国名の組合せとして最も適切なものを、下の①~⑧の中から選び、その番号を答えなさい。解答番号15の解答欄にマークしなさい。



| | ① | ② | ③ | ④ | ⑤ | ⑥ | ⑦ | ⑧ |
|---|------|-------|------|-------|-------|-------|-------|-------|
| A | オランダ | オランダ | スペイン | スペイン | デンマーク | デンマーク | ポーランド | ポーランド |
| B | スペイン | デンマーク | オランダ | ポーランド | スペイン | ポーランド | オランダ | デンマーク |

(17枚のうち11)

| | | | |
|------|--|----|--|
| 受験番号 | | 氏名 | |
|------|--|----|--|

(答えは、全て解答用紙に記入すること。)

3 日朝関係の歴史に関して、あとの1～3に答えなさい。

1 次の文章は、7世紀までの日本と朝鮮半島の国々との関係について述べたものです。文章中の空欄 ～ に入る語句の組合せとして最も適切なものを、下の①～⑧の中から選び、その番号を答えなさい。解答番号16の解答欄にマークしなさい。

5世紀以前から、多くの渡来人が海を渡って、多様な技術や文化を日本列島に伝えた。古墳時代前期から中期の初めまでの日本では、弥生土器の系譜を引く赤焼きの土器が用いられたが、5世紀には朝鮮半島から硬質で灰色の の製作技術が伝えられ、赤焼きの土器とともに用いられるようになった。

ヤマト政権は、朝鮮半島南部の鉄資源を確保するために、早くから加耶諸国と密接な関係をもっていたが、6世紀には、ヤマト政権の朝鮮半島での影響力は後退した。唐と新羅が結んで660年に を滅ぼすと、斉明天皇はその復興を支援するため大軍を派遣したが、663年に白村江の戦いで唐・新羅連合軍に大敗した。斉明天皇の死後7年間、即位しないまま政務を執行した中大兄皇子は、白村江の戦いでの敗戦を受けて対馬から大和にかけて朝鮮式山城を築き、667年に都を に移し、その翌年に天智天皇として即位した。

| | ア | イ | ウ |
|---|-----|-----|--------|
| ① | 須恵器 | 高句麗 | 飛鳥浄御原宮 |
| ② | 須恵器 | 高句麗 | 近江大津宮 |
| ③ | 須恵器 | 百済 | 飛鳥浄御原宮 |
| ④ | 須恵器 | 百済 | 近江大津宮 |
| ⑤ | 土師器 | 高句麗 | 飛鳥浄御原宮 |
| ⑥ | 土師器 | 高句麗 | 近江大津宮 |
| ⑦ | 土師器 | 百済 | 飛鳥浄御原宮 |
| ⑧ | 土師器 | 百済 | 近江大津宮 |

7 中学校 社会科 問題用紙

(17枚のうち12)

| | | | |
|------|--|----|--|
| 受験番号 | | 氏名 | |
|------|--|----|--|

(答えは、全て解答用紙に記入すること。)

2 次の資料は、朝鮮王朝の歴史に関する資料の一部です。この資料と関連が深いできごととして最も適切なものを、下の①～④の中から選び、その番号を答えなさい。解答番号17の解答欄にマークしなさい。

著作権保護の観点により、掲載いたしません。

- ① 刀伊が来襲したこと。
- ② 応永の外寇が起こったこと。
- ③ 三浦の乱が起こったこと。
- ④ 壬申約条が結ばれたこと。

3 次の文ア～エは、明治時代の日朝関係に関するできごとについて示しています。ア～エを年代の古い順に並べたものとして最も適切なものを、下の①～⑧の中から選び、その番号を答えなさい。解答番号18の解答欄にマークしなさい。

- ア 金玉均らの独立党が、日本公使館の援助を得てクーデタを起こした。
- イ 日本政府が朝鮮政府に対して、朝鮮政府の防穀令による禁輸中の損害賠償を要求した。
- ウ 日本政府が漢城に統監府をおき、伊藤博文が初代の統監となった。
- エ 日本政府が朝鮮政府にせまり、日朝修好条規を結んだ。

- ① ア → ウ → イ → エ
- ② ア → エ → ウ → イ
- ③ イ → ア → エ → ウ
- ④ イ → ウ → エ → ア
- ⑤ ウ → ア → エ → イ
- ⑥ ウ → イ → ア → エ
- ⑦ エ → ウ → イ → ア
- ⑧ エ → ア → イ → ウ

7 中学校 社会科 問題用紙

(17枚のうち13)

| | | | |
|------|--|----|--|
| 受験番号 | | 氏名 | |
|------|--|----|--|

(答えは、全て解答用紙に記入すること。)

4 日本の金融について、あとの1～3に答えなさい。

1 次の文章は、令和6年4月9日に日本銀行総裁が行った参議院財政金融委員会における日本銀行の金融政策運営に関する説明の一部を示しています。文章中の空欄 **A** ～ **C** に当てはまる数字及び語句の組合せとして最も適切なものを、下の①～④の中から選び、その番号を答えなさい。解答番号19の解答欄にマークしなさい。

著作権保護の観点により、掲載いたしません。

(日本銀行ウェブページにより作成。)

| | A | B | C |
|---|---|--------|-----------|
| ① | 2 | マイナス金利 | 無担保コールレート |
| ② | 2 | ゼロ金利 | 公定歩合 |
| ③ | 5 | マイナス金利 | 無担保コールレート |
| ④ | 5 | ゼロ金利 | 公定歩合 |

2 次の表は、銀行の信用創造の仕組みを示しています。表のように銀行Aが100億円の預金(本源的預金)を受け入れ、預金準備率を10%として企業に貸し出すとします。この貸出金は、企業の取引の支払いに充てられ、支払いを受け取った別の企業によって銀行Bに全額、預金されるとします。銀行Bはこの預金をもとに企業への貸出しを行い、同様の過程を経て、銀行Cに預金がなされるとします。銀行の預金準備率を全て10%で一定とすると、この過程が次々と繰り返された場合の銀行全体の信用創造額として最も適切なものを、下の①～④の中から選び、その番号を答えなさい。解答番号20の解答欄にマークしなさい。

著作権保護の観点により、掲載いたしません。

- ① 1100億円 ② 1000億円 ③ 900億円 ④ 800億円

7 中学校 社会科 問題用紙

(17枚のうち14)

| | | | |
|------|--|----|--|
| 受験番号 | | 氏名 | |
|------|--|----|--|

(答えは、全て解答用紙に記入すること。)

3 次のグラフは、2023年3月末時点の日本、米国、ユーロエリアの家計の金融資産構成を示しています。グラフ中の空欄 **A** ~ **C** には日本、米国、ユーロエリアのいずれかが当てはまり、空欄 **ア** ~ **エ** には、株式等、現金・預金、債務証券、投資信託のいずれかが当てはまります。「日本」を示すグラフと「投資信託」を示す項目の組合せとして最も適切なものを、下の①~⑫の中から選び、その番号を答えなさい。解答番号21の解答欄にマークしなさい。

著作権保護の観点により、掲載いたしません。

(日本銀行ウェブページにより作成。)

(注) ユーロエリアとは、EU (欧州連合) 加盟国のうち、ユーロを自国通貨としている国を指す。

| | | | | | | | | | | | |
|-----|-----|-----|-----|-----|-----|-----|-----|-----|-----|-----|-----|
| ① | ② | ③ | ④ | ⑤ | ⑥ | ⑦ | ⑧ | ⑨ | ⑩ | ⑪ | ⑫ |
| A・ア | A・イ | A・ウ | A・エ | B・ア | B・イ | B・ウ | B・エ | C・ア | C・イ | C・ウ | C・エ |

7

中学校 社会科 問題用紙

(17枚のうち15)

| | | | |
|------|--|----|--|
| 受験番号 | | 氏名 | |
|------|--|----|--|

(答えは、全て解答用紙に記入すること。)

- 5 平成29年3月告示の中学校学習指導要領 指導計画の作成と内容の取扱い 2 (2) には、情報の収集、処理や発表に当たっての配慮事項が示されています。どのようなことに配慮する必要がありますか。簡潔に書きなさい。答えは記述式解答用紙に書きなさい。

7 中学校 社会科 問題用紙

(17枚のうち16)

| | | | |
|------|--|----|--|
| 受験番号 | | 氏名 | |
|------|--|----|--|

(答えは、全て解答用紙に記入すること。)

6 アジアの地理に関して、次の1・2に答えなさい。

1 次の資料Iは、世界と熱帯アジアのそれぞれの土地面積及び沖積低地面積を示したものです。熱帯アジアの地形的特徴を、資料Iを基に簡潔に書きなさい。また、その特徴がみられるようになった理由を簡潔に書きなさい。答えは記述式解答用紙に書きなさい。

資料I [100万ha]

| |
|-----------------------|
| 著作権保護の観点により、掲載いたしません。 |
|-----------------------|

(注) 熱帯アジアはモンスーンアジアの熱帯圏を指す。

2 次の地図は、インドネシア国内の人口上位10都市の位置を示しています。インドネシアでは、ジャワ島から他の島への移住を推奨するトランスミグラーシ政策や、ジャワ島からカリマンタン島(ボルネオ島)への首都移転計画が進められています。これらの政策によってどのような課題が生じると考えられますか。その課題を、下の資料II・IIIから考えられる理由とともに簡潔に書きなさい。答えは記述式解答用紙に書きなさい。

地図

| |
|-----------------------|
| 著作権保護の観点により、掲載いたしません。 |
|-----------------------|

(「世界国勢図会 2023/24」により作成。)

資料II インドネシアに生息・生育する生物種数

| |
|-----------------------|
| 著作権保護の観点により、掲載いたしません。 |
|-----------------------|

資料III インドネシアの故地別の主な民族カテゴリー

| |
|-----------------------|
| 著作権保護の観点により、掲載いたしません。 |
|-----------------------|

7 中学校 社会科 問題用紙

(17枚のうち17)

| | | | |
|------|--|----|--|
| 受験番号 | | 氏名 | |
|------|--|----|--|

(答えは、全て解答用紙に記入すること。)

- 7 歴史的分野の授業で、豊臣秀吉の政治・経済政策を基に、近世社会の基礎がつけられたことについて学習することとします。次の資料Ⅰ～Ⅳは安土桃山時代の政策に関連した資料を示しています。これらを基に、下の1・2に答えなさい。

資料Ⅰ

著作権保護の観点により、掲載いたしません。

(「西福寺文書」)

資料Ⅱ

著作権保護の観点により、掲載いたしません。

(「多聞院日記」)

資料Ⅲ

著作権保護の観点により、掲載いたしません。

(「小早川家文書」)

資料Ⅳ

著作権保護の観点により、掲載いたしません。

(「吉川家文書」)

- 資料Ⅰの政策について、この政策が傍線部①と傍線部②の規定を設けて実施されたのはなぜですか。その理由を、資料Ⅱを踏まえて簡潔に書きなさい。答えは記述式解答用紙に書きなさい。
- 資料Ⅲ・Ⅳは豊臣秀吉が出した命令について示しています。これらの命令に着目させ、近世社会の基礎がつけられたことを理解させることとします。資料Ⅲ・Ⅳを用いて、どのように指導を行いますか。簡潔に書きなさい。答えは記述式解答用紙に書きなさい。

| | |
|----|--|
| 氏名 | |
|----|--|

⑦ 中学校 社会科 マーク式解答用紙

| 受験番号 | | | | | |
|------|---|---|---|---|---|
| 0 | 0 | 0 | 0 | 0 | 0 |
| 1 | 1 | 1 | 1 | 1 | 1 |
| 2 | 2 | 2 | 2 | 2 | 2 |
| 3 | 3 | 3 | 3 | 3 | 3 |
| 4 | 4 | 4 | 4 | 4 | 4 |
| 5 | 5 | 5 | 5 | 5 | 5 |
| 6 | 6 | 6 | 6 | 6 | 6 |
| 7 | 7 | 7 | 7 | 7 | 7 |
| 8 | 8 | 8 | 8 | 8 | 8 |
| 9 | 9 | 9 | 9 | 9 | 9 |

1

| 解答番号 | 解答欄 |
|------|-------------------------|
| 1 | ① ② ③ ④ ⑤ ⑥ ⑦ ⑧ ⑨ ⑩ ⑪ ⑫ |
| 2 | ① ② ③ ④ ⑤ ⑥ ⑦ ⑧ ⑨ ⑩ ⑪ ⑫ |
| 3 | ① ② ③ ④ ⑤ ⑥ ⑦ ⑧ ⑨ ⑩ ⑪ ⑫ |
| 4 | ① ② ③ ④ ⑤ ⑥ ⑦ ⑧ ⑨ ⑩ ⑪ ⑫ |
| 5 | ① ② ③ ④ ⑤ ⑥ ⑦ ⑧ ⑨ ⑩ ⑪ ⑫ |
| 6 | ① ② ③ ④ ⑤ ⑥ ⑦ ⑧ ⑨ ⑩ ⑪ ⑫ |
| 7 | ① ② ③ ④ ⑤ ⑥ ⑦ ⑧ ⑨ ⑩ ⑪ ⑫ |
| 8 | ① ② ③ ④ ⑤ ⑥ ⑦ ⑧ ⑨ ⑩ ⑪ ⑫ |
| 9 | ① ② ③ ④ ⑤ ⑥ ⑦ ⑧ ⑨ ⑩ ⑪ ⑫ |
| 10 | ① ② ③ ④ ⑤ ⑥ ⑦ ⑧ ⑨ ⑩ ⑪ ⑫ |
| 11 | ① ② ③ ④ ⑤ ⑥ ⑦ ⑧ ⑨ ⑩ ⑪ ⑫ |
| 12 | ① ② ③ ④ ⑤ ⑥ ⑦ ⑧ ⑨ ⑩ ⑪ ⑫ |

2

| 解答番号 | 解答欄 |
|------|-------------------------|
| 13 | ① ② ③ ④ ⑤ ⑥ ⑦ ⑧ ⑨ ⑩ ⑪ ⑫ |
| 14 | ① ② ③ ④ ⑤ ⑥ ⑦ ⑧ ⑨ ⑩ ⑪ ⑫ |
| 15 | ① ② ③ ④ ⑤ ⑥ ⑦ ⑧ ⑨ ⑩ ⑪ ⑫ |

3

| 解答番号 | 解答欄 |
|------|-------------------------|
| 16 | ① ② ③ ④ ⑤ ⑥ ⑦ ⑧ ⑨ ⑩ ⑪ ⑫ |
| 17 | ① ② ③ ④ ⑤ ⑥ ⑦ ⑧ ⑨ ⑩ ⑪ ⑫ |
| 18 | ① ② ③ ④ ⑤ ⑥ ⑦ ⑧ ⑨ ⑩ ⑪ ⑫ |

4

| 解答番号 | 解答欄 |
|------|-------------------------|
| 19 | ① ② ③ ④ ⑤ ⑥ ⑦ ⑧ ⑨ ⑩ ⑪ ⑫ |
| 20 | ① ② ③ ④ ⑤ ⑥ ⑦ ⑧ ⑨ ⑩ ⑪ ⑫ |
| 21 | ① ② ③ ④ ⑤ ⑥ ⑦ ⑧ ⑨ ⑩ ⑪ ⑫ |

〔記入上の注意〕

- 余白には何も記入しないでください。
- HBまたはBの鉛筆で該当する ○ にマークしてください。
 マーク例 《良い例》 ●
 《悪い例》 √ / ⊗ ⊘
- 訂正するときには、消しゴムで完全に消してください。
- 受験番号については、6桁の数字を記入したうえで、該当する ○ にマークしてください。



7

中学校 社会科 記述式解答用紙

(2枚のうち1)

| | | | |
|------|--|----|--|
| 受験番号 | | 氏名 | |
|------|--|----|--|

1~4については、マーク式解答用紙に記入すること。

| 問題番号 | | 解答欄 | |
|------|---|-----|--|
| 5 | | | |
| 6 | 1 | 特徴 | |
| | | 理由 | |
| 2 | | | |

7

中学校 社会科 記述式解答用紙

(2枚のうち2)

| | | | |
|------|--|----|--|
| 受験番号 | | 氏名 | |
|------|--|----|--|

1～4については、マーク式解答用紙に記入すること。

| 問題番号 | | 解答欄 |
|------|---|-----|
| 7 | 1 | |
| | 2 | |